

National Testing Agency

Question Paper Name :	General MBA 12th March 2024 Shift 3
Subject Name :	General MBA
Creation Date :	2024-03-12 20:47:58
Duration :	105
Total Marks :	300
Display Marks:	Yes

General MBA

Group Number :	1
Group Id :	878270550
Group Maximum Duration :	0
Group Minimum Duration :	105
Show Attended Group? :	No
Edit Attended Group? :	No
Break time :	0
Group Marks :	300
Is this Group for Examiner? :	No
Examiner permission :	Cant View
Show Progress Bar? :	No

General MBA

Section Id :	8782701007
Section Number :	1



Section type :	Online
Mandatory or Optional :	Mandatory
Number of Questions :	62
Number of Questions to be attempted :	62
Section Marks :	300
Enable Mark as Answered Mark for Review and Clear Response :	Yes
Maximum Instruction Time :	0
Sub-Section Number :	1
Sub-Section Id :	8782701836
Question Shuffling Allowed :	Yes
Is Section Default? :	null

Question Number : 1 Question Id : 87827045980 Question Type : MCQ Option Shuffling : No Is Question Mandatory : No Calculator : None Response Time : N.A Think Time : N.A Minimum Instruction Time : 0 Correct Marks : 4 Wrong Marks : 1

The spelling of which word out of the following is correct

1. Sanctimonous
2. Sanctimonious
3. Santimonious
4. Sanctimodus

Options :

- 878270180741. 1
- 878270180742. 2
- 878270180743. 3
- 878270180744. 4

Question Number : 1 Question Id : 87827045980 Question Type : MCQ Question Mandatory : No Calculator : None Response Time : N.A Thi



Instruction Time : 0

Correct Marks : 4 Wrong Marks : 1

'मुँह की खाना' मुहावरे का सही अर्थ है:

1. भोजन करना
2. पसंदीदा वस्तुएँ खाना
3. अपना भोजन किसी अन्य को खिलाना
4. बुरी तरह हारना

Options :

878270180741. 1
878270180742. 2
878270180743. 3
878270180744. 4

Question Number : 2 Question Id : 87827045981 Question Type : MCQ Option Shuffling : No Is

Question Mandatory : No Calculator : None Response Time : N.A Think Time : N.A Minimum

Instruction Time : 0

Correct Marks : 4 Wrong Marks : 1

He used to wake up at 4 o' clock, _____?

1. wasn't he?
2. should he?
3. didn't he?
4. will he?

Options :

878270180745. 1
878270180746. 2
878270180747. 3
878270180748. 4

Question Number : 2 Question Id : 87827045981 Question Type : MCQ

Question Mandatory : No Calculator : None Response Time : N.A Thi



Instruction Time : 0

Correct Marks : 4 Wrong Marks : 1

'आकाश' का समानार्थी शब्द निम्नलिखित में से कौन सा नहीं है?

1. व्योम
2. अंतरिक्ष
3. अवनि
4. अंबर

Options :

878270180745. 1
878270180746. 2
878270180747. 3
878270180748. 4

Question Number : 3 Question Id : 87827045982 Question Type : MCQ Option Shuffling : No Is

Question Mandatory : No Calculator : None Response Time : N.A Think Time : N.A Minimum

Instruction Time : 0

Correct Marks : 4 Wrong Marks : 1

Identify the adverb in the given sentence:

I seldom go to the movies.

1. I
2. movies
3. go
4. seldom

Options :

878270180749. 1
878270180750. 2
878270180751. 3
878270180752. 4



Question Number : 3 Question Id : 87827045982 Question Type : MCQ Option Shuffling : No Is

Question Mandatory : No Calculator : None Response Time : N.A Think Time : N.A Minimum

Instruction Time : 0

Correct Marks : 4 Wrong Marks : 1

'उन्मूलन' का सही विपरीतार्थक शब्द चुनिये:

1. विकिरण
2. प्रकीर्णन
3. संलेपन
4. रोपण

Options :

878270180749. 1

878270180750. 2

878270180751. 3

878270180752. 4

Question Number : 4 Question Id : 87827045983 Question Type : MCQ Option Shuffling : No Is

Question Mandatory : No Calculator : None Response Time : N.A Think Time : N.A Minimum

Instruction Time : 0

Correct Marks : 4 Wrong Marks : 1

From the given options, choose the correct answer to convert the given sentence in **Direct Speech to Indirect Speech**:

He requested them, "Please take me home. I don't feel very well."

1. He insisted upon going home as he was not feeling well.
2. He requested them to take him home. He said that he didn't feel very well.
3. He entrusted his friends to take him home otherwise he wouldn't feel very well.
4. He asked them to take him home. He wasn't feeling very well.

Options :

878270180753. 1

878270180754. 2

878270180755. 3

878270180756. 4

Question Number : 4 Question Id : 87827045983 Question Type : MCQ Option Shuffling : No Is Question Mandatory : No Calculator : None Response Time : N.A Think Time : N.A Minimum Instruction Time : 0

Correct Marks : 4 Wrong Marks : 1

निम्नलिखित में से अशुद्ध शब्द को चुनिये:

1. उज्ज्वल
2. प्रतिच्छाया
3. अक्षौहिणी
4. उच्छास

Options :

878270180753. 1
878270180754. 2
878270180755. 3
878270180756. 4

Question Number : 5 Question Id : 87827045984 Question Type : MCQ Option Shuffling : No Is Question Mandatory : No Calculator : None Response Time : N.A Think Time : N.A Minimum Instruction Time : 0

Correct Marks : 4 Wrong Marks : 1

From the given options, choose the correct option to convert the following sentence in **Active Voice to Passive Voice**:

Nobody can hear a sound.

1. No sound can be heard.
2. Can somebody hear a sound?
3. A sound cannot be heard at all.
4. No sound is heard.

Options :

878270180757. 1
878270180758. 2
878270180759. 3
878270180760. 4

Question Number : 5 Question Id : 87827045984 Question Type : MCQ Option Shuffling : No Is Question Mandatory : No Calculator : None Response Time : N.A Think Time : N.A Minimum Instruction Time : 0

Correct Marks : 4 Wrong Marks : 1

मुझे उसकी मूर्खता पर हँसी आती है।

उपर्युक्त वाक्य में 'मूर्खता' किस संज्ञा की श्रेणी में आता है:

1. द्रव्यवाचक संज्ञा
2. व्यक्तिवाचक संज्ञा
3. समूहवाचक संज्ञा
4. भाववाचक संज्ञा

Options :

878270180757. 1

878270180758. 2

878270180759. 3

878270180760. 4

Question Number : 6 Question Id : 87827045985 Question Type : MCQ Option Shuffling : No Is Question Mandatory : No Calculator : None Response Time : N.A Think Time : N.A Minimum Instruction Time : 0

Correct Marks : 4 Wrong Marks : 1

Fill in the blank with the correct **preposition**:

My grandfather used to say not to hanker _____ wealth and position but I did not heed his advice.

1. for
2. to
3. against
4. after

Options :

878270180761. 1

878270180762. 2



878270180763. 3

878270180764. 4

Question Number : 6 Question Id : 87827045985 Question Type : MCQ Option Shuffling : No Is Question Mandatory : No Calculator : None Response Time : N.A Think Time : N.A Minimum Instruction Time : 0

Correct Marks : 4 Wrong Marks : 1

निम्नांकित वाक्य में रेखांकित शब्द के स्थान पर दिए गए विकल्पों में से सही उत्तर चुनिए.

विधि विरुद्ध कृत्य दंडात्मक अपराध है।

1. दण्डनीय
2. अपराधिक
3. न्यायसंगत
4. दांडिक

Options :

878270180761. 1

878270180762. 2

878270180763. 3

878270180764. 4

Question Number : 7 Question Id : 87827045986 Question Type : MCQ Option Shuffling : No Is Question Mandatory : No Calculator : None Response Time : N.A Think Time : N.A Minimum Instruction Time : 0

Correct Marks : 4 Wrong Marks : 1

Fill in the blank with the correct **preposition**:

I prefer coffee _____ tea.

1. with
2. to
3. than
4. against

Options :

- 878270180765. 1
- 878270180766. 2
- 878270180767. 3
- 878270180768. 4

Question Number : 7 Question Id : 87827045986 Question Type : MCQ Option Shuffling : No Is Question Mandatory : No Calculator : None Response Time : N.A Think Time : N.A Minimum Instruction Time : 0

Correct Marks : 4 Wrong Marks : 1

'प्रत्यर्था' शब्द में कौन सा उपसर्ग है?

- 1. प्रति
- 2. प्रत्यय
- 3. प्र
- 4. प्रत्य

Options :

- 878270180765. 1
- 878270180766. 2
- 878270180767. 3
- 878270180768. 4

Question Number : 8 Question Id : 87827045987 Question Type : MCQ Option Shuffling : No Is Question Mandatory : No Calculator : None Response Time : N.A Think Time : N.A Minimum Instruction Time : 0

Correct Marks : 4 Wrong Marks : 1

What is the meaning of the Idiom: Bolt from the blue.

- 1. To beat ruthlessly
- 2. A sudden rush of energy
- 3. An unexpected shock/incident
- 4. To find out the truth

Options :

- 878270180769. 1
- 878270180770. 2
- 878270180771. 3
- 878270180772. 4

Question Number : 8 Question Id : 87827045987 Question Type : MCQ Option Shuffling : No Is Question Mandatory : No Calculator : None Response Time : N.A Think Time : N.A Minimum Instruction Time : 0

Correct Marks : 4 Wrong Marks : 1

"मेरे इसका नंबर आया"

रिक्त स्थान हेतु उपयुक्त शब्द का चयन कीजिए:

- 1. पीछे
- 2. बाद
- 3. से पहले
- 4. पीछे से

Options :

- 878270180769. 1
- 878270180770. 2
- 878270180771. 3
- 878270180772. 4

Question Number : 9 Question Id : 87827045988 Question Type : MCQ Option Shuffling : No Is Question Mandatory : No Calculator : None Response Time : N.A Think Time : N.A Minimum Instruction Time : 0

Correct Marks : 4 Wrong Marks : 1

Match the idiom/phrase in **List-I** with their meanings in **List-II**:

List-I	List-II
Idiom/Phrase:	Meaning
(A). Big bad wolf	(I). Appeal to the lower taste
(B). To throw up one's cards	(II). To wish for something impossible
(C). Cry for the moon	(III). Fear of the unknown
(D). Play to the gallery	(IV). To cease to struggle/ to accept defeat

Choose the **correct** answer from the options given below:

1. (A) - (III), (B) - (II), (C) - (IV), (D) - (I)
2. (A) - (III), (B) - (IV), (C) - (II), (D) - (I)
3. (A) - (III), (B) - (I), (C) - (IV), (D) - (II)
4. (A) - (III), (B) - (I), (C) - (II), (D) - (IV)

Options :

878270180773. 1

878270180774. 2

878270180775. 3

878270180776. 4

Question Number : 9 Question Id : 87827045988 Question Type : MCQ Option Shuffling : No Is

Question Mandatory : No Calculator : None Response Time : N.A Think Time : N.A Minimum

Instruction Time : 0

Correct Marks : 4 Wrong Marks : 1

निम्नलिखित में से रेखांकित शब्दों का शुद्ध रूप चुनिए-

लब्ध प्रतिष्ठ व्यक्तियों ने नए प्रारूप को व्यवस्था के अंग के रूप में स्वीकार प्रदान किया है।

1. स्वीकृति प्रदान की है।
2. अनुमोदन दिया है।
3. मंजूर किया है।
4. स्वीकार की है।

Options :

- 878270180773. 1
- 878270180774. 2
- 878270180775. 3
- 878270180776. 4

Question Number : 10 Question Id : 87827045989 Question Type : MCQ Option Shuffling : No

Is Question Mandatory : No Calculator : None Response Time : N.A Think Time : N.A

Minimum Instruction Time : 0

Correct Marks : 4 Wrong Marks : 1

Which of the following options is synonymous with the word: **Inimical**.

- 1. Pious
- 2. Innovative
- 3. Shrivell
- 4. Harmful

Options :

- 878270180777. 1
- 878270180778. 2
- 878270180779. 3
- 878270180780. 4

Question Number : 10 Question Id : 87827045989 Question Type : MCQ Option Shuffling : No

Is Question Mandatory : No Calculator : None Response Time : N.A Think Time : N.A

Minimum Instruction Time : 0

Correct Marks : 4 Wrong Marks : 1

'बाजार गर्म होना' मुहावरे का अर्थ निम्नलिखित में से कौन सा है?

- 1. मौसम में गर्मी आना
- 2. बाजार में गरम पकवान बिकना
- 3. अत्यधिक गर्मी होना
- 4. बोलबाला होना

Options :

- 878270180777. 1
- 878270180778. 2
- 878270180779. 3
- 878270180780. 4

Question Number : 11 Question Id : 87827045990 Question Type : MCQ Option Shuffling : No

Is Question Mandatory : No Calculator : None Response Time : N.A Think Time : N.A

Minimum Instruction Time : 0

Correct Marks : 4 Wrong Marks : 1

From the given options, choose the **antonym** of the word: 'Antipathy'.

- 1. Admiration
- 2. Unexplained
- 3. Blame
- 4. Rouse

Options :

- 878270180781. 1
- 878270180782. 2
- 878270180783. 3
- 878270180784. 4

Question Number : 11 Question Id : 87827045990 Question Type : MCQ Option Shuffling : No

Is Question Mandatory : No Calculator : None Response Time : N.A Think Time : N.A

Minimum Instruction Time : 0

Correct Marks : 4 Wrong Marks : 1

सूची -I को सूची -II से सुमेलित कीजिए :

सूची -I	सूची -II
शब्द	समानार्थी शब्द
(A). विद्युत	(I). अर्कजा
(B). कालिंदी	(II). आदित्य
(C). व्याल	(III). सौदामिनी
(D). मार्तण्ड	(IV). सर्प

नीचे दिए गए विकल्पों में से सही उत्तर चुनिए :

1. (A) - (I), (B) - (IV), (C) - (III), (D) - (II)
2. (A) - (II), (B) - (III), (C) - (IV), (D) - (I)
3. (A) - (III), (B) - (I), (C) - (IV), (D) - (II)
4. (A) - (I), (B) - (II), (C) - (III), (D) - (IV)

Options :

878270180781. 1

878270180782. 2

878270180783. 3

878270180784. 4

Question Number : 12 Question Id : 87827045991 Question Type : MCQ Option Shuffling : No

Is Question Mandatory : No Calculator : None Response Time : N.A Think Time : N.A

Minimum Instruction Time : 0

Correct Marks : 4 Wrong Marks : 1

Choose the expanded form of the **one-word substitution**: 'Bohemian.'

1. People, groups, nations or states united for the same purpose.
2. A person (prisoner) who frequently gets in trouble for indulging in fights
3. A person (artist) leading a way of life which is very unconventional
4. Revolt against the Government to bring complete change.

Options :

878270180785. 1

878270180786. 2

878270180787. 3

878270180788. 4



Question Number : 12 Question Id : 87827045991 Question Type : MCQ Option Shuffling : No
Is Question Mandatory : No Calculator : None Response Time : N.A Think Time : N.A
Minimum Instruction Time : 0
Correct Marks : 4 Wrong Marks : 1

सूची -I को सूची -II से सुमेलित कीजिए :

सूची -I	सूची -II
शब्द	प्रकार
(A). लालटेन	(I). देशज
(B). डिब्बिया	(II). तत्सम
(C). सार्वभौम	(III). विदेशज
(D). मुँह	(IV). तद्भव

नीचे दिए गए विकल्पों में से सही उत्तर चुनिए :

1. (A) - (IV), (B) - (II), (C) - (III), (D) - (I)
2. (A) - (III), (B) - (I), (C) - (II), (D) - (IV)
3. (A) - (IV), (B) - (III), (C) - (II), (D) - (I)
4. (A) - (II), (B) - (IV), (C) - (III), (D) - (I)

Options :

878270180785. 1
878270180786. 2
878270180787. 3
878270180788. 4

Question Number : 13 Question Id : 87827045992 Question Type : MCQ Option Shuffling : No
Is Question Mandatory : No Calculator : None Response Time : N.A Think Time : N.A
Minimum Instruction Time : 0
Correct Marks : 4 Wrong Marks : 1

Match the one-word substitutions in **List-I** with their meanings in **List-II**:

List-I	List-II
One word substitution	Meaning in expanded form
(A). A long, loud, serious and usually angry speech	(I). Harangue
(B). A person authorized to act on behalf of another	(II). Partisan
(C). Done by one-side or party only	(III). Proxy
(D). A person devoted to a party group or cause	(IV). Unilateral

Choose the **correct** answer from the options given below:

1. (A) - (II), (B) - (IV), (C) - (I), (D) - (III)
2. (A) - (I), (B) - (III), (C) - (IV), (D) - (II)
3. (A) - (III), (B) - (I), (C) - (II), (D) - (IV)
4. (A) - (II), (B) - (IV), (C) - (III), (D) - (I)

Options :

878270180789. 1

878270180790. 2

878270180791. 3

878270180792. 4

Question Number : 13 Question Id : 87827045992 Question Type : MCQ Option Shuffling : No

Is Question Mandatory : No Calculator : None Response Time : N.A Think Time : N.A

Minimum Instruction Time : 0

Correct Marks : 4 Wrong Marks : 1

सूची -I को सूची -II से सुमेलित कीजिए :

सूची -I	सूची -II
विच्छेद	संधि
(A). गुरू+औदार्य - गुर्वौदार्य	(I). वृद्धि संधि
(B). एक+एक - एकैक	(II). गुण संधि
(C). गंगा+ऊर्मि - गंगोर्मि	(III). दीर्घ संधि
(D). पितृ+ ऋण - पितृण	(IV). यण् संधि

नीचे दिए गए विकल्पों में से सही उत्तर चुनिए :

1. (A) - (I), (B) - (II), (C) - (III), (D) - (IV)
2. (A) - (IV), (B) - (I), (C) - (II), (D) - (III)
3. (A) - (II), (B) - (IV), (C) - (III), (D) - (I)
4. (A) - (III), (B) - (II), (C) - (I), (D) - (IV)

Options :

878270180789. 1
878270180790. 2
878270180791. 3
878270180792. 4

Question Number : 14 Question Id : 87827045993 Question Type : MCQ Option Shuffling : No

Is Question Mandatory : No Calculator : None Response Time : N.A Think Time : N.A

Minimum Instruction Time : 0

Correct Marks : 4 Wrong Marks : 1

From the given options, choose the suitable word to fill in the blank:

The king issued a _____ forbidding hunting.

1. decree
2. degree
3. deceit
4. decry

Options :

878270180793. 1
878270180794. 2



878270180795. 3

878270180796. 4

Question Number : 14 Question Id : 87827045993 Question Type : MCQ Option Shuffling : No

Is Question Mandatory : No Calculator : None Response Time : N.A Think Time : N.A

Minimum Instruction Time : 0

Correct Marks : 4 Wrong Marks : 1

सूची -I को सूची -II से सुमेलित कीजिए :

सूची -I	सूची -II
वाक्यांश	एक शब्द
(A). जो क्रम के अनुसार हो	(I). युयुत्सा
(B). जो पहले के अनुसार हो	(II). युयुत्सु
(C). युद्ध करने के प्रबल इच्छा	(III). यथाक्रम
(D). युद्ध करने की प्रबल इच्छा वाला	(IV). यथापूर्व

नीचे दिए गए विकल्पों में से सही उत्तर चुनिए :

1. (A) - (II), (B) - (III), (C) - (IV), (D) - (I)
2. (A) - (III), (B) - (IV), (C) - (II), (D) - (I)
3. (A) - (IV), (B) - (I), (C) - (II), (D) - (III)
4. (A) - (I), (B) - (IV), (C) - (III), (D) - (II)

Options :

878270180793. 1

878270180794. 2

878270180795. 3

878270180796. 4

Question Number : 15 Question Id : 87827045994 Question Type : MCQ Option Shuffling : No

Is Question Mandatory : No Calculator : None Response Time : N.A Think Time : N.A

Minimum Instruction Time : 0

Correct Marks : 4 Wrong Marks : 1

From the given options, choose the right answer to correct the **error** in the following sentence:

Rohit, who is my friend and benefactor, have come.

1. Rohit, who is my friend and benefactor, haven't come.
2. Rohit, who is my friend and benefactor, have been coming.
3. Rohit, who is my friend and benefactor, has come.
4. Rohit, who is my friend and benefactor, are come.

Options :

878270180797. 1

878270180798. 2

878270180799. 3

878270180800. 4

Question Number : 15 Question Id : 87827045994 Question Type : MCQ Option Shuffling : No

Is Question Mandatory : No Calculator : None Response Time : N.A Think Time : N.A

Minimum Instruction Time : 0

Correct Marks : 4 Wrong Marks : 1

निम्नांकित वाक्य को दिए गए विकल्प में से सही उत्तर चुनकर पूर्ण कीजिए:

मैं वादा करती हूँ कि _____

1. मैं यह काम कर लूँ
2. तुम यह काम कर सकते हो
3. मैं जल्दी ही लौटूंगी
4. मैं सभी को साथ लेकर आगे बढ़ना चाहती हूँ

Options :

878270180797. 1

878270180798. 2

878270180799. 3

878270180800. 4

Question Number : 16 Question Id : 87827045995 Question Type : MCQ



Is Question Mandatory : No Calculator : None Response Time : N.A Think Time : N.A

Minimum Instruction Time : 0

Correct Marks : 4 Wrong Marks : 1

Arrange the parts of the following sentence in the **correct order**:

- (A). we shall at last
- (B). do a thing however difficult it may be
- (C). if we are really determined to
- (D). find a way to do it

Choose the **correct** answer from the options given below:

1. (A), (C), (D), (B).
2. (B), (D), (A), (C).
3. (D), (C), (B), (A).
4. (C), (B), (A), (D).

Options :

878270180801. 1

878270180802. 2

878270180803. 3

878270180804. 4

Question Number : 16 Question Id : 87827045995 Question Type : MCQ Option Shuffling : No

Is Question Mandatory : No Calculator : None Response Time : N.A Think Time : N.A

Minimum Instruction Time : 0

Correct Marks : 4 Wrong Marks : 1

सूची -I को सूची -II से सुमेलित कीजिए :

सूची -I	सूची -II
(A). राजपुरोहित	(I). द्विगु
(B). पंचतत्व	(II). द्वन्द्व
(C). जय-पराजय	(III). तत्पुरुष
(D). नीलकमल	(IV). बहुब्रीहि

नीचे दिए गए विकल्पों में से सही उत्तर चुनिए :

1. (A) - (III), (B) - (II), (C) - (I), (D) - (IV)
2. (A) - (II), (B) - (III), (C) - (IV), (D) - (I)
3. (A) - (III), (B) - (I), (C) - (II), (D) - (IV)
4. (A) - (I), (B) - (II), (C) - (III), (D) - (IV)

Options :

878270180801. 1

878270180802. 2

878270180803. 3

878270180804. 4

Question Number : 17 Question Id : 87827045996 Question Type : MCQ Option Shuffling : No

Is Question Mandatory : No Calculator : None Response Time : N.A Think Time : N.A

Minimum Instruction Time : 0

Correct Marks : 4 Wrong Marks : 1

Re-arrange the parts of the following paragraph in the **right order**:

(A). When we reached halfway, the bus stopped in front of a hotel.

(B). Then came the announcement that it was time for lunch.

(C). I went into the hotel and sat before a table near the driver.

(D). I was returning from Chandigarh by bus.

Choose the **correct** answer from the options given below:

1. (A), (B), (D), (C).

2. (D), (A), (B), (C).

3. (C), (D), (B), (A).

4. (D), (C), (A), (B).

Options :

878270180805. 1

878270180806. 2

878270180807. 3

878270180808. 4

Question Number : 17 Question Id : 87827045996 Question Type : MCQ Option Shuffling : No

Is Question Mandatory : No Calculator : None Response Time : N.A Think Time : N.A

Minimum Instruction Time : 0

Correct Marks : 4 Wrong Marks : 1

निम्नलिखित में से अव्ययीभाव समास का उदाहरण नहीं है-

- A. प्रत्यक्ष
- B. बेलाग
- C. उपकूल
- D. भरपेट
- E. गिरहकर

नीचे दिए गए विकल्पों में से सही उत्तर चुनें :

1. केवल (A) और (B)
2. केवल (A), (C) और (D)
3. केवल (D)
4. केवल (E)

Options :

- 878270180805. 1
- 878270180806. 2
- 878270180807. 3
- 878270180808. 4

Question Number : 18 Question Id : 87827045997 Question Type : MCQ Option Shuffling : No

Is Question Mandatory : No Calculator : None Response Time : N.A Think Time : N.A

Minimum Instruction Time : 0

Correct Marks : 4 Wrong Marks : 1

Which part of the following sentence needs **improvement** to make the sentence grammatically correct?

A virus is a piece of software code created to perform malicious activities and hampered resources of a computer system like CPU, memory, personal files, or sensitive information.

1. like CPU, memory, personal files, or sensitive information.
2. and hampered resources of a computer system
3. created to perform malicious activities
4. A virus is a piece of software code

Options :



878270180809. 1

878270180810. 2

878270180811. 3

878270180812. 4

Question Number : 18 Question Id : 87827045997 Question Type : MCQ Option Shuffling : No

Is Question Mandatory : No Calculator : None Response Time : N.A Think Time : N.A

Minimum Instruction Time : 0

Correct Marks : 4 Wrong Marks : 1

निम्नलिखित में से शुद्ध वाक्य की पहचान कीजिए-

1. मुझे उनसे खतरे का डर है।
2. गत रविवार को कौन-सा दिन था।
3. हमारा विचार तो यही है।
4. मेरा प्राण संकट में है।

Options :

878270180809. 1

878270180810. 2

878270180811. 3

878270180812. 4

Question Number : 19 Question Id : 87827045998 Question Type : MCQ Option Shuffling : No

Is Question Mandatory : No Calculator : None Response Time : N.A Think Time : N.A

Minimum Instruction Time : 0

Correct Marks : 4 Wrong Marks : 1

Which part of the following sentence needs **improvement**?

His computer is inferior than mine.

1. His computer
2. is inferior
3. than mine
4. Sentence doesn't need improvement

Options :

878270180813. 1
878270180814. 2
878270180815. 3
878270180816. 4

Question Number : 19 Question Id : 87827045998 Question Type : MCQ Option Shuffling : No

Is Question Mandatory : No Calculator : None Response Time : N.A Think Time : N.A

Minimum Instruction Time : 0

Correct Marks : 4 Wrong Marks : 1

सूची -I को सूची -II से सुमेलित कीजिए :

सूची -I	सूची -II
वाक्य	कारक
(A). वह कलम से लिखता है	(I). अपादान
(B). वृक्ष से पत्ता गिरा	(II). करण
(C). वह अपने पिता से बात करता है	(III). सम्प्रदान
(D). वह सुप्रिया के लिए कार्य करता है	(IV). सम्बन्ध

नीचे दिए गए विकल्पों में से सही उत्तर चुनिए :

1. (A) - (III), (B) - (IV), (C) - (II), (D) - (I)
2. (A) - (I), (B) - (III), (C) - (IV), (D) - (II)
3. (A) - (II), (B) - (I), (C) - (IV), (D) - (III)
4. (A) - (IV), (B) - (III), (C) - (II), (D) - (I)

Options :

878270180813. 1
878270180814. 2
878270180815. 3
878270180816. 4

Question Number : 20 Question Id : 87827045999 Question Type : MCQ Option Shuffling : No

Is Question Mandatory : No Calculator : None Response Time : N.A 1

Minimum Instruction Time : 0



Correct Marks : 4 Wrong Marks : 1

Complete the following paragraph by choosing the correct form of the verb given in the bracket:

The pressure _____ (put) all the panelists in a frenzy. They _____ (shout) over each other trying to make their voices _____ (hear). It is nothing short of a pandemonium.

1. has put, are shouting, heard
2. put, are shouting, to be heard
3. has put, shout, had heard
4. put, were shouting, will be heard

Options :

878270180817. 1
878270180818. 2
878270180819. 3
878270180820. 4

Question Number : 20 Question Id : 87827045999 Question Type : MCQ Option Shuffling : No Is Question Mandatory : No Calculator : None Response Time : N.A Think Time : N.A Minimum Instruction Time : 0

Correct Marks : 4 Wrong Marks : 1

निम्नलिखित में कौन से वाक्य अशुद्ध हैं?

- A. तुम केवल बोलना जानते हो।
- B. ठण्डा घड़े का पानी पिलाइए।
- C. नायक का पति परदेश में है।
- D. डाल पर चिड़िया बैठी है।
- E. तुम मेरी तरफ क्या देख रहे हो?

नीचे दिए गए विकल्पों में से सही उत्तर चुनें :

1. केवल (A) और (B)
2. केवल (B) और (C)
3. केवल (C) और (D)
4. केवल (D) और (E)

Options :

878270180817. 1

878270180818. 2

878270180819. 3

878270180820. 4

Sub-Section Number :

2

Sub-Section Id :

8782701837

Question Shuffling Allowed :

No

Is Section Default? :

null

Question Id : 87827046000 Question Type : COMPREHENSION Sub Question Shuffling Allowed : Yes Group Comprehension Questions : No Question Pattern Type : NonMatrix Calculator : None Response Time : N.A Think Time : N.A Minimum Instruction Time : 0

Question Numbers : (21 to 25)

Question Label : Comprehension

Read the following passage and answer the following question

Over the last few years, the top technology companies of the Silicon Valley have been dominating headlines as the government has conducted more hearings and investigations into their business practices, particularly those that have allowed them to dominate consumers and the market. Despite these investigations, two business practices have yet to be questioned: the formation of product ecosystems and planned obsolescence. The former refers to a group "of several devices that "talk" to each other while the latter is "the phenomenon of deliberately shortening the durability of products." Additionally, there has not been an investigation into the relationship of these concepts with consumer rights.

Congress's amendment to the Federal Trade Commission Act in 1938 made 'unfair methods of competition in commerce, and unfair or deceptive acts or practices in commerce unlawful.' These concepts were expanded upon by President John F. Kennedy in a 1962 address to Congress in which he laid out four consumer rights: "the right to safety, the right to be informed, the right to choose and the right to be heard." Pertinent in this context, are the consumer rights to be informed and choose. The former requires the consumer be given "all facts they need to make informed choices" and be "protected against fraudulent, deceitful, or misleading information, advertising, labeling, or other practices. The latter requires the consumer have the ability to pick between "a variety of products and services at competitive prices."

For instance, the product XYZ offers a host of products, from the xPhone to the xMac to the X Watch, that each share information with the others. Consumers benefit from access to information on one product that was first input on a different product. This can also be to the detriment of consumers because information can only be transferred between products in the same ecosystem. This tactic makes it difficult for consumers to switch technology brands and for competitors to enter the market. Product ecosystems thus call into question a consumer's right to choose by restricting access to competing goods.

Sub questions

Question Number : 21 Question Id : 87827046001 Question Type : MCQ Option Shuffling : No

Is Question Mandatory : No Calculator : None Response Time : N.A Think Time : N.A

Minimum Instruction Time : 0

Correct Marks : 4 Wrong Marks : 1

Read the given passage carefully and answer the questions that follow:

What is planned obsolescence?

1. It is the process of formation of an ecosystem wherein several devices talk to each other
2. It is the phenomenon of deliberately shortening the durability of products.
3. It is the method of using false claims as advertisements to mislead consumers
4. It is a system of downloading data in a planned manner

Options :

878270180821. 1



878270180822. 2

878270180823. 3

878270180824. 4

**Question Number : 22 Question Id : 87827046002 Question Type : MCQ Option Shuffling : No
Is Question Mandatory : No Calculator : None Response Time : N.A Think Time : N.A
Minimum Instruction Time : 0**

Correct Marks : 4 Wrong Marks : 1

Read the given passage carefully and answer the questions that follow:

Which of the following is not a right laid out by President John F. Kennedy in his 1962 address to Congress?

1. The right to choose
2. The right to be heard
3. The right to safety
4. The right to life

Options :

878270180825. 1

878270180826. 2

878270180827. 3

878270180828. 4

**Question Number : 23 Question Id : 87827046003 Question Type : MCQ Option Shuffling : No
Is Question Mandatory : No Calculator : None Response Time : N.A Think Time : N.A
Minimum Instruction Time : 0**

Correct Marks : 4 Wrong Marks : 1

Read the given passage carefully and answer the questions that follow:

What according to the passage comprises the consumer's right to be informed?

1. Ability to pick between a variety of products and services at competitive prices.
2. Right to choose by restricting access to competing goods.
3. To be informed about policy changes by third-party collaborators
4. To be given all facts they need to make informed choices

Options :

- 878270180829. 1
- 878270180830. 2
- 878270180831. 3
- 878270180832. 4

Question Number : 24 Question Id : 87827046004 Question Type : MCQ Option Shuffling : No

Is Question Mandatory : No Calculator : None Response Time : N.A Think Time : N.A

Minimum Instruction Time : 0

Correct Marks : 4 Wrong Marks : 1

Read the given passage carefully and answer the questions that follow:

Which of the following products are not offered by XYZ?

- (A). xPhone
- (B). X Watch
- (C). iBoard
- (D). iSmart Home

Choose the **correct** answer from the options given below:

1. (A) and (B) only.
2. (C) and (D) only.
3. (A), (C) and (D) only.
4. (A), (B) and (C) only.

Options :

- 878270180833. 1
- 878270180834. 2
- 878270180835. 3
- 878270180836. 4

Question Number : 25 Question Id : 87827046005 Question Type : MCQ

Is Question Mandatory : No Calculator : None Response Time : N.A 1



Minimum Instruction Time : 0

Correct Marks : 4 Wrong Marks : 1

Read the given passage carefully and answer the questions that follow:

Which of the following statements from the passage are false?

- (A). Consumers benefit from access to information on one product that was first input on a different product.
- (B). There has been an investigation into the relationship of the concepts of product ecosystems and planned obsolescence with consumer rights.
- (C). Congress's amendment to the Federal Trade Commission Act in 1938 made unfair methods of competition in commerce unlawful.
- (D). The right to be heard equals the right to be protected against fraudulent, deceitful, or misleading information, advertising, labeling, or other practices

Choose the **correct** answer from the options given below:

- 1. (A), (B) and (D) only.
- 2. (B) and (C) only.
- 3. (A) and (D) only.
- 4. (B) and (D) only.

Options :

878270180837. 1

878270180838. 2

878270180839. 3

878270180840. 4

Question Id : 87827046000 Question Type : COMPREHENSION Sub Question Shuffling Allowed

: Yes Group Comprehension Questions : No Question Pattern Type : NonMatrix Calculator :

None Response Time : N.A Think Time : N.A Minimum Instruction Time : 0

Question Numbers : (21 to 25)

Question Label : Comprehension

निम्नलिखित गद्यांश को पढ़िये और उससे संबंधित प्रश्नों के उत्तर दीजिए:

प्रेमचंद की कहानियों का विकास उसी रास्ते से हुआ है, जिस रास्ते से भारत में यथार्थवाद का विकास हुआ है। बुद्धिवादी, राष्ट्रीय, आधुनिक और जनतांत्रिक राहों से भारत में यथार्थवाद का विकास हुआ है। इसलिए ये सभी तत्व प्रेमचंद के कथासाहित्य में हैं। आज भी बहुत से शहरी पाठक भारत के गाँवों को प्रेमचंद की कहानियों के माध्यम से जानते हैं।

Sub questions

Question Number : 21 Question Id : 87827046001 Question Type : MCQ Option Shuffling : No

Is Question Mandatory : No Calculator : None Response Time : N.A Think Time : N.A

Minimum Instruction Time : 0

Correct Marks : 4 Wrong Marks : 1

गद्यांश के अनुसार, भारत में यथार्थवाद का विकास किन राहों से हुआ है?

(A). बुद्धिवादी

(B). राष्ट्रीय

(C). आधुनिक

(D). जनतांत्रिक

निम्नलिखित में से सही विकल्प चुनिये:

1. केवल A और B
2. केवल B और C
3. केवल C और D
4. A, B, C और D

Options :

878270180821. 1

878270180822. 2

878270180823. 3

878270180824. 4

Question Number : 22 Question Id : 87827046002 Question Type : MCQ

Is Question Mandatory : No Calculator : None Response Time : N.A 1



Minimum Instruction Time : 0

Correct Marks : 4 Wrong Marks : 1

गद्यांश के अनुसार, प्रेमचन्द की कहानियों का विकास भारत में किसके विकास के रास्ते हुआ है?

1. रहस्यवाद
2. यथार्थवाद
3. छायावाद
4. भौतिकतावाद

Options :

878270180825. 1

878270180826. 2

878270180827. 3

878270180828. 4

Question Number : 23 Question Id : 87827046003 Question Type : MCQ Option Shuffling : No

Is Question Mandatory : No Calculator : None Response Time : N.A Think Time : N.A

Minimum Instruction Time : 0

Correct Marks : 4 Wrong Marks : 1

गद्यांश में प्रयुक्त 'राष्ट्रीय' शब्द में विशेष्य क्या है?

1. राष्ट्र
2. ईय
3. राष्ट्रीय
4. राष्ट्रियता

Options :

878270180829. 1

878270180830. 2

878270180831. 3

878270180832. 4

Question Number : 24 Question Id : 87827046004 Question Type : MCQ

Is Question Mandatory : No Calculator : None Response Time : N.A 1



Minimum Instruction Time : 0

Correct Marks : 4 Wrong Marks : 1

गद्यांश के अनुसार, शहर में निवास करने वाले अनेक पाठक भारत के गाँवों को किसके माध्यम से जानते हैं?

1. फिल्मों के माध्यम से
2. इंटरनेट के माध्यम से
3. प्रेमचंद की कहानियों के माध्यम से
4. आधुनिक विकास के माध्यम से

Options :

878270180833. 1

878270180834. 2

878270180835. 3

878270180836. 4

Question Number : 25 Question Id : 87827046005 Question Type : MCQ Option Shuffling : No

Is Question Mandatory : No Calculator : None Response Time : N.A Think Time : N.A

Minimum Instruction Time : 0

Correct Marks : 4 Wrong Marks : 1

गद्यांश में प्रयुक्त 'यथार्थ' शब्द का विलोम है-

1. अभिधार्थ
2. भावार्थ
3. काल्पनिक
4. प्रामाणिक

Options :

878270180837. 1

878270180838. 2

878270180839. 3

878270180840. 4

Sub-Section Number :

3

Sub-Section Id :

8782701838

Question Shuffling Allowed :

Yes



Is Section Default? :

null

Question Number : 26 Question Id : 87827046006 Question Type : MCQ Option Shuffling : No

Is Question Mandatory : No Calculator : None Response Time : N.A Think Time : N.A

Minimum Instruction Time : 0

Correct Marks : 4 Wrong Marks : 1

X, Y and Z are partners in a business. Their shares of investment in the business are in the proportion of $1/3 : 1/4 : 1/5$.

X withdraws half of his capital after 15 months and after another 15 months, a profit of Rs. 4340 is divided among them.

The share of Y in the profit is:

1. Rs.1240.
2. Rs.1245.
3. Rs.1350.
4. Rs.1550.

Options :

878270180841. 1

878270180842. 2

878270180843. 3

878270180844. 4

Question Number : 26 Question Id : 87827046006 Question Type : MCQ Option Shuffling : No

Is Question Mandatory : No Calculator : None Response Time : N.A Think Time : N.A

Minimum Instruction Time : 0

Correct Marks : 4 Wrong Marks : 1

X, Y और Z एक व्यवसाय में भागीदार हैं। उनके द्वारा व्यवसाय में लगाई गई राशी का शेयर $1/3 : 1/4 : 1/5$ के अनुपात में हैं। X, 15 महीने के बाद अपनी लगाई गई पूंजी का आधा हिस्सा निकाल लेता है और उससे अगले 15 महीने के बाद रु 4340 का लाभ आपस में बाँट लिया जाता है। Y का कुल लाभ में हिस्सा है:

1. रु 1240
2. रु 1245
3. रु 1350
4. रु 1550

Options :



878270180841. 1

878270180842. 2

878270180843. 3

878270180844. 4

Question Number : 27 Question Id : 87827046007 Question Type : MCQ Option Shuffling : No

Is Question Mandatory : No Calculator : None Response Time : N.A Think Time : N.A

Minimum Instruction Time : 0

Correct Marks : 4 Wrong Marks : 1

A certain sum of money becomes three times of itself in 20 years at simple interest. In how many years does it become double of itself at the same rate of simple interest?

1. 10 yrs.

2. 6 yrs.

3. 4 yrs.

4. 3 yrs.

Options :

878270180845. 1

878270180846. 2

878270180847. 3

878270180848. 4

Question Number : 27 Question Id : 87827046007 Question Type : MCQ Option Shuffling : No

Is Question Mandatory : No Calculator : None Response Time : N.A Think Time : N.A

Minimum Instruction Time : 0

Correct Marks : 4 Wrong Marks : 1

साधारण ब्याज पर एक निश्चित राशि 20 वर्षों में अपने आप का तीन गुना हो जाती है। कितने वर्षों में साधारण ब्याज की समान दर पर यह अपने आप का दोगुना हो जाती है?

1. 10 साल

2. 6 साल

3. 4 साल

4. 3 साल



Options :

- 878270180845. 1
- 878270180846. 2
- 878270180847. 3
- 878270180848. 4

Question Number : 28 Question Id : 87827046008 Question Type : MCQ Option Shuffling : No

Is Question Mandatory : No Calculator : None Response Time : N.A Think Time : N.A

Minimum Instruction Time : 0

Correct Marks : 4 Wrong Marks : 1

A milkman buys two cows for Rs.750. He sells first cow at a profit of 22% and the second cow at a loss of 8%. What is the S.P. of second cow if in the whole transaction there is no profit no loss?

- 1. Rs.532
- 2. Rs.506
- 3. Rs.484
- 4. Rs.312

Options :

- 878270180849. 1
- 878270180850. 2
- 878270180851. 3
- 878270180852. 4

Question Number : 28 Question Id : 87827046008 Question Type : MCQ Option Shuffling : No

Is Question Mandatory : No Calculator : None Response Time : N.A Think Time : N.A

Minimum Instruction Time : 0

Correct Marks : 4 Wrong Marks : 1

एक दूधवाला Rs.750 में दो गायें खरीदता है। वह पहली गाय को 22 प्रतिशत के लाभ पर और दूसरी गाय को 8 प्रतिशत के नुकसान पर बेचता है। यदि पूरे लेन-देन में कोई लाभ-हानि नहीं है तो दूसरी गाय का विक्रय मूल्य क्या है?

1. Rs.532
2. Rs.506
3. Rs.484
4. Rs.312

Options :

878270180849. 1
878270180850. 2
878270180851. 3
878270180852. 4

Question Number : 29 Question Id : 87827046009 Question Type : MCQ Option Shuffling : No

Is Question Mandatory : No Calculator : None Response Time : N.A Think Time : N.A

Minimum Instruction Time : 0

Correct Marks : 4 Wrong Marks : 1

Rahul saves 10% of his total salary. Next year, he increase his expenses by 20%, but his percentage of savings remain the same. What is the percenatage increase in his salary next year?

1. 10%
2. 16.66%
3. 20%
4. 40%

Options :

878270180853. 1
878270180854. 2
878270180855. 3
878270180856. 4

Question Number : 29 Question Id : 87827046009 Question Type : MCQ



collegedunia.com

Is Question Mandatory : No Calculator : None Response Time : N.A Think Time : N.A

Minimum Instruction Time : 0

Correct Marks : 4 Wrong Marks : 1

राहुल अपने कुल वेतन का 10 प्रतिशत बचाता है। अगले साल, वह अपने खर्चों में 20 प्रतिशत की वृद्धि करता है, लेकिन उसकी बचत का प्रतिशत वही रहता है। अगले साल उसके वेतन में कितने प्रतिशत वृद्धि हुई ?

1. 10%
2. 16.66%
3. 20%
4. 40%

Options :

878270180853. 1
878270180854. 2
878270180855. 3
878270180856. 4

Question Number : 30 Question Id : 87827046010 Question Type : MCQ Option Shuffling : No Is Question Mandatory : No Calculator : None Response Time : N.A Think Time : N.A

Minimum Instruction Time : 0

Correct Marks : 4 Wrong Marks : 1

Tank is fitted with two taps X and Y. In how much time will the tank be full if both the taps are opened together? Which of the followings statements is/are required to answer this question

- (A) X is 50% more efficient than Y.
(B) X alone takes 16 hours to fill the tank.
(C) Y alone takes 24 hours to fill the tank.

Choose the **correct** answer from the options given below:

1. (A) and (C) only.
2. (A) and (B) only.
3. (B) and (C) only.
4. Any two of the three.

Options :



878270180857. 1

878270180858. 2

878270180859. 3

878270180860. 4

Question Number : 30 Question Id : 87827046010 Question Type : MCQ Option Shuffling : No

Is Question Mandatory : No Calculator : None Response Time : N.A Think Time : N.A

Minimum Instruction Time : 0

Correct Marks : 4 Wrong Marks : 1

टंकी में दो नल X और Y लगे हैं। यदि दोनों नल एक साथ खोले जाते हैं तो टंकी कितने समय में भर जाएगी? निम्नलिखित कथनों में से कौन से कथन ऊपर दिए गए प्रश्न का उत्तर देने के लिए अनिवार्य हैं।

(A) X, Y की तुलना में 50 प्रतिशत अधिक कुशल है।

(B) अकेले X को टंकी भरने में 16 घंटे लगते हैं।

(C) अकेले Y को टंकी भरने में 24 घंटे लगते हैं।

नीचे दिए गए विकल्पों में से सही उत्तर चुनें:

1. (A) और (C) केवल।
2. (A) और (B) केवल।
3. (B) और (C) केवल।
4. तीनों कथनों में से कोई भी दो।

Options :

878270180857. 1

878270180858. 2

878270180859. 3

878270180860. 4

Question Number : 31 Question Id : 87827046011 Question Type : MCQ Option Shuffling : No

Is Question Mandatory : No Calculator : None Response Time : N.A Think Time : N.A

Minimum Instruction Time : 0

Correct Marks : 4 Wrong Marks : 1



A thief, pursued by a policeman, was 100m ahead at the start. If the ratio of the speed of the policeman to that of the thief was 5:4, then how far could the thief go before he was caught by the policeman?

1. 200 m
2. 400 m
3. 600 m
4. 700 m

Options :

878270180861. 1
878270180862. 2
878270180863. 3
878270180864. 4

Question Number : 31 Question Id : 87827046011 Question Type : MCQ Option Shuffling : No

Is Question Mandatory : No Calculator : None Response Time : N.A Think Time : N.A

Minimum Instruction Time : 0

Correct Marks : 4 Wrong Marks : 1

एक चोर, जिसका एक पुलिसकर्मी पीछा कर रहा था, शुरू में 100 मीटर आगे था। अगर पुलिसकर्मी की गति का चोर की गति से अनुपात 5:4 था, तो पुलिसकर्मी द्वारा पकड़े जाने से पहले चोर कितनी दूर जा चूका होगा?

1. 200 मीटर
2. 400 मीटर
3. 600 मीटर
4. 700 मीटर

Options :

878270180861. 1
878270180862. 2
878270180863. 3
878270180864. 4

Question Number : 32 Question Id : 87827046012 Question Type : MCQ



collegedunia.com

Is Question Mandatory : No Calculator : None Response Time : N.A Think Time : N.A

Minimum Instruction Time : 0

Correct Marks : 4 Wrong Marks : 1

A 50 metre long train passes over a bridge at the speed of 30 km per hour. If it takes 36 seconds to cross the bridge, what is the length of the bridge?

1. 250 metres
2. 300 metres
3. 350 metres
4. 400 metres

Options :

878270180865. 1
878270180866. 2
878270180867. 3
878270180868. 4

Question Number : 32 Question Id : 87827046012 Question Type : MCQ Option Shuffling : No

Is Question Mandatory : No Calculator : None Response Time : N.A Think Time : N.A

Minimum Instruction Time : 0

Correct Marks : 4 Wrong Marks : 1

एक 50 मीटर लंबी ट्रेन 30 किमी प्रति घंटे की गति से एक पुल के ऊपर से गुजरती है। यदि पुल को पार करने में 36 सेकंड लगते हैं, तो पुल की लंबाई कितनी है?

1. 250 मीटर
2. 300 मीटर
3. 350 मीटर
4. 400 मीटर

Options :

878270180865. 1
878270180866. 2
878270180867. 3
878270180868. 4

Question Number : 33 Question Id : 87827046013 Question Type : MCQ Option Shuffling : No

Is Question Mandatory : No Calculator : None Response Time : N.A Think Time : N.A

Minimum Instruction Time : 0

Correct Marks : 4 Wrong Marks : 1

Which statement is/are enough to give the answer of the question.

In how many days can 16 men and 8 women together complete the piece of work?

(A) 8 men complete the piece of work in 10 days.

(B) 16 women complete the piece of work in 10 days.

(C) 5 women take 32 days to complete the piece of work.

Choose the **correct** answer from the options given below:

1. Only (A) and (C).
2. Only (B) and (C).
3. Only (A) and (B).
4. Only (A) and either (B) or (C).

Options :

878270180869. 1

878270180870. 2

878270180871. 3

878270180872. 4

Question Number : 33 Question Id : 87827046013 Question Type : MCQ Option Shuffling : No

Is Question Mandatory : No Calculator : None Response Time : N.A Think Time : N.A

Minimum Instruction Time : 0

Correct Marks : 4 Wrong Marks : 1

दिए गए प्रश्न का उत्तर देने के लिए कौन सा कथन जरूरी है.

16 पुरुष और 8 महिलाएं मिलकर कितने दिनों में काम पूरा कर सकते हैं?

- (A) 8 आदमी 10 दिनों में काम पूरा करते हैं।
- (B) 16 महिलाएं 10 दिनों में काम पूरा करती हैं।
- (C) 5 महिलाओं को काम पूरा करने में 32 दिन लगते हैं।

नीचे दिए गए विकल्पों में से **सही** उत्तर चुनें।

- 1. केवल (A) और (C)
- 2. केवल (B) और (C)
- 3. केवल (A) और (B)
- 4. केवल (A) और (B) या (C)

Options :

- 878270180869. 1
- 878270180870. 2
- 878270180871. 3
- 878270180872. 4

Question Number : 34 Question Id : 87827046014 Question Type : MCQ Option Shuffling : No Is Question Mandatory : No Calculator : None Response Time : N.A Think Time : N.A Minimum Instruction Time : 0 Correct Marks : 4 Wrong Marks : 1

A takes twice as much time as B or thrice as much time as C to finish a piece of work. Working together, they can finish the work in 2 days. B alone can do the work in :

- 1. 12 days
- 2. 10 days
- 3. 6 days
- 4. 5 days

Options :

- 878270180873. 1
- 878270180874. 2



878270180875. 3

878270180876. 4

Question Number : 34 Question Id : 87827046014 Question Type : MCQ Option Shuffling : No

Is Question Mandatory : No Calculator : None Response Time : N.A Think Time : N.A

Minimum Instruction Time : 0

Correct Marks : 4 Wrong Marks : 1

A को किसी कार्य को पूरा करने में B की तुलना में दोगुना या C की तुलना में तीन गुना अधिक समय लगता है। एक साथ काम करने पर वे 2 दिनों में काम पूरा कर सकते हैं। B, अकेले काम को कितने दिनों में कर सकता है?

1. 12 दिनों में
2. 10 दिनों में
3. 6 दिनों में
4. 5 दिनों में

Options :

878270180873. 1

878270180874. 2

878270180875. 3

878270180876. 4

Question Number : 35 Question Id : 87827046015 Question Type : MCQ Option Shuffling : No

Is Question Mandatory : No Calculator : None Response Time : N.A Think Time : N.A

Minimum Instruction Time : 0

Correct Marks : 4 Wrong Marks : 1

What will be the share of Ravi in the profit earned by Vikram, Ravi and Anuj together if Ravi investment was 25% less than Vikram and 50% more than Anuj and the profit of Vikram is Rs. 4000 more than that of Anuj?

1. Rs 4000
2. Rs 5000
3. Rs 6000
4. Rs 7000

Options :



878270180877. 1

878270180878. 2

878270180879. 3

878270180880. 4

Question Number : 35 Question Id : 87827046015 Question Type : MCQ Option Shuffling : No

Is Question Mandatory : No Calculator : None Response Time : N.A Think Time : N.A

Minimum Instruction Time : 0

Correct Marks : 4 Wrong Marks : 1

विक्रम, रवि और अनुज द्वारा एक साथ अर्जित लाभ में रवि का हिस्सा क्या होगा, अगर रवि का निवेश विक्रम की तुलना में 25 प्रतिशत कम और अनुज की तुलना में 50 प्रतिशत अधिक था और अगर विक्रम का लाभ अनुज के लाभ से Rs.4000 अधिक है?

1. Rs 4000

2. Rs 5000

3. Rs 6000

4. Rs 7000

Options :

878270180877. 1

878270180878. 2

878270180879. 3

878270180880. 4

Question Number : 36 Question Id : 87827046016 Question Type : MCQ Option Shuffling : No

Is Question Mandatory : No Calculator : None Response Time : N.A Think Time : N.A

Minimum Instruction Time : 0

Correct Marks : 4 Wrong Marks : 1

A sum of money becomes eight times in 3 yrs, if the rate is compounded annually. In how many years the same amount at the same compound interest rate will become sixteen times?

1. 8 yrs
2. 6 yrs
3. 5 yrs
4. 4 yrs

Options :

878270180881. 1
878270180882. 2
878270180883. 3
878270180884. 4

Question Number : 36 Question Id : 87827046016 Question Type : MCQ Option Shuffling : No

Is Question Mandatory : No Calculator : None Response Time : N.A Think Time : N.A

Minimum Instruction Time : 0

Correct Marks : 4 Wrong Marks : 1

एक राशि 3 वर्षों में आठ गुना हो जाती है, यदि दर वार्षिक रूप से चक्रवृद्धि होती है। उसी चक्रवृद्धि ब्याज दर पर उतनी ही राशि कितने वर्षों में सोलह गुना हो जाएगी?

1. 8 साल
2. 6 साल
3. 5 साल
4. 4 साल

Options :

878270180881. 1
878270180882. 2
878270180883. 3
878270180884. 4

Question Number : 37 Question Id : 87827046017 Question Type : MCQ



collegedunia.com

Is Question Mandatory : No Calculator : None Response Time : N.A Think Time : N.A

Minimum Instruction Time : 0

Correct Marks : 4 Wrong Marks : 1

The shopkeeper labelled the price of the watch 20% above the the cost price. After allowing a discount of 15% on the labelled price, the shopkeeper charges Rs. 408 for the watch. What was the cost price of the watch?

Choose the **most appropriate** answer from the options given below:

1. Rs 350
2. Rs 400
3. Rs 450
4. Rs 500

Options :

878270180885. 1

878270180886. 2

878270180887. 3

878270180888. 4

Question Number : 37 Question Id : 87827046017 Question Type : MCQ Option Shuffling : No

Is Question Mandatory : No Calculator : None Response Time : N.A Think Time : N.A

Minimum Instruction Time : 0

Correct Marks : 4 Wrong Marks : 1

दुकानदार ने घड़ी की मूल्य को लागत मूल्य से 20 प्रतिशत अधिक अंकित किया। उसके बाद अंकित मूल्य पर 15% की छूट देने के बाद, दुकानदार घड़ी को Rs. 408 कीमत पर बेचता है। घड़ी का लागत मूल्य क्या था?

नीचे दिए गए विकल्पों में से **सही** उत्तर चुनें:

1. Rs 350
2. Rs 400
3. Rs 450
4. Rs 500

Options :



878270180885. 1

878270180886. 2

878270180887. 3

878270180888. 4

Question Number : 38 Question Id : 87827046018 Question Type : MCQ Option Shuffling : No

Is Question Mandatory : No Calculator : None Response Time : N.A Think Time : N.A

Minimum Instruction Time : 0

Correct Marks : 4 Wrong Marks : 1

In an election, a total of 5,00,000 voters participated. A candidate got 2,55,000 votes which was 60% of the total valid votes.

What was the percentage of invalid votes?

1. 15%

2. 12%

3. 10%

4. 300/17%

Options :

878270180889. 1

878270180890. 2

878270180891. 3

878270180892. 4

Question Number : 38 Question Id : 87827046018 Question Type : MCQ Option Shuffling : No

Is Question Mandatory : No Calculator : None Response Time : N.A Think Time : N.A

Minimum Instruction Time : 0

Correct Marks : 4 Wrong Marks : 1

एक चुनाव में, कुल 5,00,000 मतदाताओं ने भाग लिया। एक उम्मीदवार को 2,55,000 वोट मिले जो कुल वैध मतों का 60% था। अमान्य मतों का प्रतिशत कितना था?

1. 15%
2. 12%
3. 10%
4. 300/17%

Options :

878270180889. 1
878270180890. 2
878270180891. 3
878270180892. 4

Question Number : 39 Question Id : 87827046019 Question Type : MCQ Option Shuffling : No

Is Question Mandatory : No Calculator : None Response Time : N.A Think Time : N.A

Minimum Instruction Time : 0

Correct Marks : 4 Wrong Marks : 1

If the cost price of 10 articles is equal to the selling price of 7 articles, then the gain or loss percent is:

1. 51% gain
2. $42\frac{6}{7}$ % gain
3. 35% loss
4. $42\frac{6}{7}$ % loss

Options :

878270180893. 1
878270180894. 2
878270180895. 3
878270180896. 4

Question Number : 39 Question Id : 87827046019 Question Type : MCQ

Is Question Mandatory : No Calculator : None Response Time : N.A 1



Minimum Instruction Time : 0

Correct Marks : 4 Wrong Marks : 1

यदि 10 वस्तुओं का लागत मूल्य 7 वस्तुओं के विक्रय मूल्य के बराबर है, तो लाभ या हानि प्रतिशत है

1. 51% लाभ
2. $42\frac{6}{7}$ % लाभ
3. 35% हानि
4. $42\frac{6}{7}$ % हानि

Options :

878270180893. 1

878270180894. 2

878270180895. 3

878270180896. 4

Question Number : 40 Question Id : 87827046020 Question Type : MCQ Option Shuffling : No

Is Question Mandatory : No Calculator : None Response Time : N.A Think Time : N.A

Minimum Instruction Time : 0

Correct Marks : 4 Wrong Marks : 1

An outlet pipe can empty a cistern in 3 hours. In what time will it empty $\frac{2}{3}$ rd of the cistern?

1. 2 hours
2. 3 hours
3. 4 hours
4. 5 hours

Options :

878270180897. 1

878270180898. 2

878270180899. 3

878270180900. 4

Question Number : 40 Question Id : 87827046020 Question Type : MCQ

Is Question Mandatory : No Calculator : None Response Time : N.A



Minimum Instruction Time : 0

Correct Marks : 4 Wrong Marks : 1

एक निकास पाइप 3 घंटे में एक टंकी को खाली कर सकता है। कितने समय में यह टंकी का $\frac{2}{3}$ हिस्सा खाली कर देगा?

1. 2 घंटे
2. 3 घंटे
3. 4 घंटे
4. 5 घंटे

Options :

878270180897. 1
878270180898. 2
878270180899. 3
878270180900. 4

Question Number : 41 Question Id : 87827046021 Question Type : MCQ Option Shuffling : No

Is Question Mandatory : No Calculator : None Response Time : N.A Think Time : N.A

Minimum Instruction Time : 0

Correct Marks : 4 Wrong Marks : 1

X takes 2 hours more than Y to walk d km, but if X doubles his speed, then he can make it in 1 hours less than Y. How much time does Y require for walking d km?

1. 3 hours
2. 4 hours
3. $\frac{d}{2}$ hours
4. $\frac{2d}{3}$ hours

Options :

878270180901. 1
878270180902. 2
878270180903. 3
878270180904. 4



Question Number : 41 Question Id : 87827046021 Question Type : MCQ Option Shuffling : No

Is Question Mandatory : No Calculator : None Response Time : N.A Think Time : N.A

Minimum Instruction Time : 0

Correct Marks : 4 Wrong Marks : 1

X को d किमी. चलने में Y की तुलना में 2 घंटे अधिक लगते हैं, लेकिन यदि X अपनी गति को दोगुना कर देता है, तो वह इसे Y से 1 घंटे कम में पूरा कर सकता है। Y को d किमी. चलने में कितना समय लगेगा ?

1. 3 घंटे
2. 4 घंटे
3. $\frac{d}{2}$ hours
4. $\frac{2d}{3}$ hours

Options :

878270180901. 1

878270180902. 2

878270180903. 3

878270180904. 4

Question Number : 42 Question Id : 87827046022 Question Type : MCQ Option Shuffling : No

Is Question Mandatory : No Calculator : None Response Time : N.A Think Time : N.A

Minimum Instruction Time : 0

Correct Marks : 4 Wrong Marks : 1

Two trains are coming from opposite directions with speeds of 75 km/hr and 100 km/hr on two parallel tracks. At some moment the distance between them is 100km. After T hours, distance between them is again 100km. T is equal to :

1. 1.5 hrs
2. $1\frac{1}{7}$ hrs
3. 1 hr
4. 2 hrs

Options :

878270180905. 1

878270180906. 2

878270180907. 3



878270180908. 4

Question Number : 42 Question Id : 87827046022 Question Type : MCQ Option Shuffling : No

Is Question Mandatory : No Calculator : None Response Time : N.A Think Time : N.A

Minimum Instruction Time : 0

Correct Marks : 4 Wrong Marks : 1

दो ट्रेनें विपरीत दिशाओं से 75 किमी/घंटा और 100 किमी/घंटा की गति से दो समानांतर पटरियों पर आ रही हैं। एक समय उनके बीच की दूरी 100 किमी है। T घंटे बाद, उनके बीच की दूरी फिर से 100 किमी है। T का मान क्या है:

1. 1.5 घंटे
2. $1\frac{1}{7}$ घंटे
3. 1 घंटा
4. 2 घंटे

Options :

878270180905. 1

878270180906. 2

878270180907. 3

878270180908. 4

Question Number : 43 Question Id : 87827046023 Question Type : MCQ Option Shuffling : No

Is Question Mandatory : No Calculator : None Response Time : N.A Think Time : N.A

Minimum Instruction Time : 0

Correct Marks : 4 Wrong Marks : 1

Efficiency of X is 20% less than Y to do a certain task. If X alone can complete a piece of work in $7\frac{1}{2}$ hours, then Y alone can do it in:

1. $4\frac{1}{2}$ hours
2. 5 hours
3. $7\frac{1}{2}$ hours
4. 6 hours

Options :



878270180909. 1

878270180910. 2

878270180911. 3

878270180912. 4

Question Number : 43 Question Id : 87827046023 Question Type : MCQ Option Shuffling : No

Is Question Mandatory : No Calculator : None Response Time : N.A Think Time : N.A

Minimum Instruction Time : 0

Correct Marks : 4 Wrong Marks : 1

किसी कार्य को करने में X की कार्यक्षमता, Y की तुलना में 20 प्रतिशत कम है। यदि X किसी काम को $7\frac{1}{2}$ घंटे में पूरा कर सकता है, तो Y इसे कितनी देर में कर सकता है?

1. $4\frac{1}{2}$ घंटे

2. 5 घंटे

3. $7\frac{1}{2}$ घंटे

4. 6 घंटे

Options :

878270180909. 1

878270180910. 2

878270180911. 3

878270180912. 4

Question Number : 44 Question Id : 87827046024 Question Type : MCQ Option Shuffling : No

Is Question Mandatory : No Calculator : None Response Time : N.A Think Time : N.A

Minimum Instruction Time : 0

Correct Marks : 4 Wrong Marks : 1

A man, a woman and a boy can finish a job in 3, 4 and 12 days respectively. How many boys must assist 1 man and 1 woman to finish the job in $\frac{1}{4}$ of a day ?

1. 14
2. 41
3. 19
4. 11

Options :

878270180913. 1
878270180914. 2
878270180915. 3
878270180916. 4

Question Number : 44 Question Id : 87827046024 Question Type : MCQ Option Shuffling : No

Is Question Mandatory : No Calculator : None Response Time : N.A Think Time : N.A

Minimum Instruction Time : 0

Correct Marks : 4 Wrong Marks : 1

एक पुरुष, एक महिला और एक लड़का एक काम को क्रमशः 3, 4 और 12 दिनों में पूरा कर सकते हैं। उसी काम को एक दिन के एक चौथाई समय में पूरा करने के लिए एक पुरुष और एक महिला के साथ कितने लड़कों की आवश्यकता पड़ेगी ?

1. 14
2. 41
3. 19
4. 11

Options :

878270180913. 1
878270180914. 2
878270180915. 3
878270180916. 4

Question Number : 45 Question Id : 87827046025 Question Type : MCQ

Is Question Mandatory : No Calculator : None Response Time : N.A 1



Minimum Instruction Time : 0

Correct Marks : 4 Wrong Marks : 1

If $x\%$ of a is the same as $y\%$ of b , then $z\%$ of b is

1. $xy/z\%$ of a
2. $yz/x\%$ of a
3. $xz/y\%$ of a
4. $xyz\%$

Options :

878270180917. 1
878270180918. 2
878270180919. 3
878270180920. 4

Question Number : 45 Question Id : 87827046025 Question Type : MCQ Option Shuffling : No

Is Question Mandatory : No Calculator : None Response Time : N.A Think Time : N.A

Minimum Instruction Time : 0

Correct Marks : 4 Wrong Marks : 1

यदि a का $x\%$, b के $y\%$ के समान है, तो b का $z\%$ है

1. a का $xy/z\%$
2. a का $yz/x\%$
3. a का $xz/y\%$
4. $xyz\%$

Options :

878270180917. 1
878270180918. 2
878270180919. 3
878270180920. 4

Question Number : 46 Question Id : 87827046026 Question Type : MCQ

Is Question Mandatory : No Calculator : None Response Time : N.A 1



Minimum Instruction Time : 0

Correct Marks : 4 Wrong Marks : 1

In a row of students , Ankit is 7th from left, while sumit is 18th from right. Both of them interchanged their positions such that Ankit becomes 21st from left . What will be the total number of students in the class?

1. 36
2. 37
3. 38
4. 39

Options :

878270180921. 1
878270180922. 2
878270180923. 3
878270180924. 4

Question Number : 46 Question Id : 87827046026 Question Type : MCQ Option Shuffling : No

Is Question Mandatory : No Calculator : None Response Time : N.A Think Time : N.A

Minimum Instruction Time : 0

Correct Marks : 4 Wrong Marks : 1

छात्रों की एक पंक्ति में, अंकित बाएं से सातवें स्थान पर है, जबकि सुमित दाएं से 18वें स्थान पर है। उन दोनों के अपने स्थान को एक-दूसरे के साथ आपस में बदलने के बाद अंकित बाएं से 21वें स्थान पर आ गया। कक्षा में छात्रों की कुल संख्या कितनी होगी?

1. 36
2. 37
3. 38
4. 39

Options :

878270180921. 1
878270180922. 2
878270180923. 3
878270180924. 4

Question Number : 47 Question Id : 87827046027 Question Type : MCQ Option Shuffling : No

Is Question Mandatory : No Calculator : None Response Time : N.A Think Time : N.A

Minimum Instruction Time : 0

Correct Marks : 4 Wrong Marks : 1

Six boys P,Q,R,S,T and Z sit in two rows of three boys each . If T is not at any end of rows, S is second to the left of Z , R is the neighbour of T and is sitting diagonally opposite to S and Q is the neighbour of Z, then who will sit opposite to Q?

1. T
2. S
3. P
4. Q

Options :

878270180925. 1

878270180926. 2

878270180927. 3

878270180928. 4

Question Number : 47 Question Id : 87827046027 Question Type : MCQ Option Shuffling : No

Is Question Mandatory : No Calculator : None Response Time : N.A Think Time : N.A

Minimum Instruction Time : 0

Correct Marks : 4 Wrong Marks : 1

छह लड़के P, Q, R, S, T और Z तीन-तीन लड़कों की दो पंक्तियों में बैठते हैं। यदि T पंक्तियों के किसी भी छोर पर नहीं है; S, Z के बाईं ओर दूसरा है; R, T का पड़ोसी है और S के विकर्ण रेखीय सम्मुख बैठा है और Q, Z का पड़ोसी है, तो Q के सामने कौन बैठेगा?

1. T
2. S
3. P
4. Q

Options :

878270180925. 1

878270180926. 2

878270180927. 3

878270180928. 4

Question Number : 48 Question Id : 87827046028 Question Type : MCQ Option Shuffling : No

Is Question Mandatory : No Calculator : None Response Time : N.A Think Time : N.A

Minimum Instruction Time : 0

Correct Marks : 4 Wrong Marks : 1

Which Argument's is/are strong as per given statement.

Statement—Should there be a complete ban on strike by government employees in India ?

Arguments—

I. Yes, this is the only way to teach discipline to the employees.

II. No, this deprives the citizens of their democratic rights.

1. if only argument I is strong
2. if only argument II is strong
3. if either I or II is strong
4. if both I & II are strong

Options :

878270180929. 1

878270180930. 2

878270180931. 3

878270180932. 4

Question Number : 48 Question Id : 87827046028 Question Type : MCQ Option Shuffling : No

Is Question Mandatory : No Calculator : None Response Time : N.A Think Time : N.A

Minimum Instruction Time : 0

Correct Marks : 4 Wrong Marks : 1

दिए गए कथन के हिसाब से कौन सा तर्क ज्यादा सशक्त है।

कथन- क्या भारत में सरकारी कर्मचारियों की हड़ताल पर पूर्ण प्रतिबंध होना चाहिए?

तर्क -

- I. हां, कर्मचारियों को अनुशासन सिखाने का यही एकमात्र तरीका है।
 - II. नहीं, यह नागरिकों को उनके लोकतांत्रिक अधिकारों से वंचित करता है।
1. यदि केवल तर्क I सशक्त है
 2. यदि केवल तर्क II सशक्त है
 3. यदि या तो I या II सशक्त है
 4. यदि I और II दोनों सशक्त हैं

Options :

878270180929. 1

878270180930. 2

878270180931. 3

878270180932. 4

Question Number : 49 Question Id : 87827046029 Question Type : MCQ Option Shuffling : No

Is Question Mandatory : No Calculator : None Response Time : N.A Think Time : N.A

Minimum Instruction Time : 0

Correct Marks : 4 Wrong Marks : 1

Read both the statements and decide which of the following answer choice correctly depicts the relationship between these two statements

Statement I : Senior citizens of the city have complained about the late night disturbance caused due to loudspeakers used during festivals

Statement II : Though, the Government has issued a directive banning late night celebrations involving use of loudspeakers, it is not being strictly followed in some of the areas

1. If statement (I) is the cause and statement (II) is its effect.
2. If statement (II) is the cause and statement (I) is its effect.
3. If both the statements (I) and (II) are independent causes.
4. If both the statements (I) and (II) are effects of some common cause.

Options :

878270180933. 1

878270180934. 2

878270180935. 3

878270180936. 4

Question Number : 49 Question Id : 87827046029 Question Type : MCQ Option Shuffling : No**Is Question Mandatory : No Calculator : None Response Time : N.A Think Time : N.A****Minimum Instruction Time : 0****Correct Marks : 4 Wrong Marks : 1**

दोनों कथनों को पढ़ें और तय करें कि निम्नलिखित में से कौन सा उत्तर विकल्प इन दोनों कथनों के बीच संबंध को सही ढंग से दर्शाता है।

कथन I. शहर के वरिष्ठ नागरिकों ने त्योहारों के दौरान इस्तेमाल किए जाने वाले लाउडस्पीकों के कारण देर रात होने वाली परेशानी के बारे में शिकायत की है।

कथन II. हालांकि, सरकार ने देर रात के उत्सवों में लाउडस्पीकों के उपयोग पर प्रतिबंध लगाने का निर्देश जारी किया है, लेकिन कुछ क्षेत्रों में इसका सख्ती से पालन नहीं किया जा रहा है।

1. यदि कथन (I) कारण है और कथन (II) इसका प्रभाव है।
2. यदि कथन (II) कारण है और कथन (I) इसका प्रभाव है।
3. यदि दोनों कथन (I) और (II) स्वतंत्र कारण हैं।
4. यदि दोनों कथन (I) और (II) किसी सामान कारण के प्रभाव हैं।

Options :

878270180933. 1

878270180934. 2

878270180935. 3

878270180936. 4

Question Number : 50 Question Id : 87827046030 Question Type : MCQ Option Shuffling : No**Is Question Mandatory : No Calculator : None Response Time : N.A Think Time : N.A****Minimum Instruction Time : 0****Correct Marks : 4 Wrong Marks : 1**

If in a certain language FLOWERS is coded as SLEWOLF, how will PENSION be coded in that code?

1. NEISNOP
2. NEISNQP
3. NEISMOP
4. PEISNOP

Options :

878270180937. 1

878270180938. 2

878270180939. 3

878270180940. 4

Question Number : 50 Question Id : 87827046030 Question Type : MCQ Option Shuffling : No

Is Question Mandatory : No Calculator : None Response Time : N.A Think Time : N.A

Minimum Instruction Time : 0

Correct Marks : 4 Wrong Marks : 1

यदि एक निश्चित भाषा में FLOWERS को SLEWOLF के रूप में कोडित किया जाता है, तो उस भाषा में PENSION को कैसे कोडित किया जाएगा?

1. NEISNOP
2. NEISNQP
3. NEISMOP
4. PEISNOP

Options :

878270180937. 1

878270180938. 2

878270180939. 3

878270180940. 4

Question Number : 51 Question Id : 87827046031 Question Type : MCQ

Is Question Mandatory : No Calculator : None Response Time : N.A 1



Minimum Instruction Time : 0

Correct Marks : 4 Wrong Marks : 1

If in a certain code language SISTER is coded as 636301, UNCLE as 84570 and OK as 29, how will SON be coded in that code language?

1. 624
2. 625
3. 564
4. 629

Options :

878270180941. 1
878270180942. 2
878270180943. 3
878270180944. 4

Question Number : 51 Question Id : 87827046031 Question Type : MCQ Option Shuffling : No Is Question Mandatory : No Calculator : None Response Time : N.A Think Time : N.A

Minimum Instruction Time : 0

Correct Marks : 4 Wrong Marks : 1

यदि किसी निश्चित कोड भाषा में SISTER को 636301, UNCLE को 84570 और OK को 29 के रूप में कोडित किया गया है, तो उस कोड भाषा में SON को कैसे कोडित किया जाएगा?

1. 624
2. 625
3. 564
4. 629

Options :

878270180941. 1
878270180942. 2
878270180943. 3
878270180944. 4

Question Number : 52 Question Id : 87827046032 Question Type : MCQ Option Shuffling : No

Is Question Mandatory : No Calculator : None Response Time : N.A Think Time : N.A

Minimum Instruction Time : 0

Correct Marks : 4 Wrong Marks : 1

Which number will come next in the series:

3, 10, 33, 104, 319, ?

1. 960
2. 966
3. 969
4. 1000

Options :

878270180945. 1

878270180946. 2

878270180947. 3

878270180948. 4

Question Number : 52 Question Id : 87827046032 Question Type : MCQ Option Shuffling : No

Is Question Mandatory : No Calculator : None Response Time : N.A Think Time : N.A

Minimum Instruction Time : 0

Correct Marks : 4 Wrong Marks : 1

कौन सी संख्या श्रृंखला में आगे आएगी :

3, 10, 33, 104, 319, ?

1. 960
2. 966
3. 969
4. 1000

Options :

878270180945. 1

878270180946. 2



878270180947. 3

878270180948. 4

Question Number : 53 Question Id : 87827046033 Question Type : MCQ Option Shuffling : No

Is Question Mandatory : No Calculator : None Response Time : N.A Think Time : N.A

Minimum Instruction Time : 0

Correct Marks : 4 Wrong Marks : 1

Which number will come next in the series:

4, 10, 19, 40, 79, 160, ?

1. 310
2. 320
3. 315
4. 319

Options :

878270180949. 1

878270180950. 2

878270180951. 3

878270180952. 4

Question Number : 53 Question Id : 87827046033 Question Type : MCQ Option Shuffling : No

Is Question Mandatory : No Calculator : None Response Time : N.A Think Time : N.A

Minimum Instruction Time : 0

Correct Marks : 4 Wrong Marks : 1

कौन सी संख्या श्रृंखला में आगे आएगी:

4, 10, 19, 40, 79, 160, ?

1. 310
2. 320
3. 315
4. 319

Options :



878270180949. 1

878270180950. 2

878270180951. 3

878270180952. 4

Question Number : 54 Question Id : 87827046034 Question Type : MCQ Option Shuffling : No

Is Question Mandatory : No Calculator : None Response Time : N.A Think Time : N.A

Minimum Instruction Time : 0

Correct Marks : 4 Wrong Marks : 1

Anil said to Anand, " that boy playing with the football is the younger of the two brothers of the daughter of my father's wife".

How is the boy playing football related to Anil?

1. father
2. brother
3. son-in-law
4. uncle

Options :

878270180953. 1

878270180954. 2

878270180955. 3

878270180956. 4

Question Number : 54 Question Id : 87827046034 Question Type : MCQ Option Shuffling : No

Is Question Mandatory : No Calculator : None Response Time : N.A Think Time : N.A

Minimum Instruction Time : 0

Correct Marks : 4 Wrong Marks : 1

अनिल ने आनंद से कहा, "फुटबॉल खेलने वाला वह लड़का मेरे पिता की पत्नी की बेटी के दो भाइयों में से छोटा भाई है।" फुटबॉल खेलने वाले लड़के का अनिल से क्या संबंध है?

1. पिता
2. भाई
3. दामाद
4. चाचा

Options :

878270180953. 1
878270180954. 2
878270180955. 3
878270180956. 4

Question Number : 55 Question Id : 87827046035 Question Type : MCQ Option Shuffling : No

Is Question Mandatory : No Calculator : None Response Time : N.A Think Time : N.A

Minimum Instruction Time : 0

Correct Marks : 4 Wrong Marks : 1

'A+B' means 'A is the husband of B',
'A/B' means 'A is the sister of B' and
'A*B' means 'A is the son of B',

which of the following shows 'P is the daughter of Q'?

1. P/S * Q
2. S* Q + R/P
3. Q+R*P
4. R * Q/P

Options :

878270180957. 1
878270180958. 2
878270180959. 3
878270180960. 4

Question Number : 55 Question Id : 87827046035 Question Type : MCQ Option Shuffling : No

Is Question Mandatory : No Calculator : None Response Time : N.A Think Time : N.A

Minimum Instruction Time : 0

Correct Marks : 4 Wrong Marks : 1

यदि 'A + B' का अर्थ है 'A, B का पति है', 'A/B' का अर्थ है 'A, B की बहन है' और 'A * B' का अर्थ है 'A, B का पुत्र है', तो निम्नलिखित में से कौन सा दर्शाता है 'P, Q की पुत्री है'?

1. P/S * Q
2. S*Q+R/P
3. Q + R * P
4. R * Q/P

Options :

878270180957. 1

878270180958. 2

878270180959. 3

878270180960. 4

Question Number : 56 Question Id : 87827046036 Question Type : MCQ Option Shuffling : No

Is Question Mandatory : No Calculator : None Response Time : N.A Think Time : N.A

Minimum Instruction Time : 0

Correct Marks : 4 Wrong Marks : 1

Akhil starts walking towards South. After walking 20m , he turns towards North. After walking 25m, he turns towards East and walks 10 m. He then turns towards South and walks 5m .How far is he from his original position and in which direction?

1. 10m , East
2. 10m, West
3. 10m, South
4. 10m ,North

Options :

878270180961. 1

878270180962. 2

878270180963. 3

878270180964. 4



Question Number : 56 Question Id : 87827046036 Question Type : MCQ Option Shuffling : No

Is Question Mandatory : No Calculator : None Response Time : N.A Think Time : N.A

Minimum Instruction Time : 0

Correct Marks : 4 Wrong Marks : 1

अखिल दक्षिण की ओर चलना शुरू करता है। 20 मीटर चलने के बाद, वह उत्तर की ओर मुड़ता है। 25 मीटर चलने के बाद, वह पूर्व की ओर मुड़ता है और 10 मीटर चलता है। फिर वह दक्षिण की ओर मुड़ता है और 5 मीटर चलता है। वह अपनी मूल स्थिति से कितनी दूर है और किस दिशा में है?

1. 10 मीटर, पूर्व
2. 10 मीटर, पश्चिम
3. 10 मीटर, दक्षिण
4. 10 मीटर, उत्तर

Options :

878270180961. 1

878270180962. 2

878270180963. 3

878270180964. 4

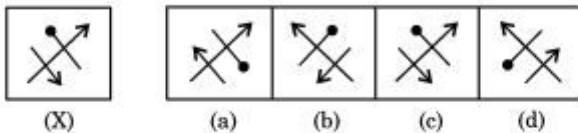
Question Number : 57 Question Id : 87827046037 Question Type : MCQ Option Shuffling : No

Is Question Mandatory : No Calculator : None Response Time : N.A Think Time : N.A

Minimum Instruction Time : 0

Correct Marks : 4 Wrong Marks : 1

which option is correct mirror image of figure(x)?



1. a
2. b
3. c
4. d

Options :

878270180965. 1

878270180966. 2

878270180967. 3

878270180968. 4

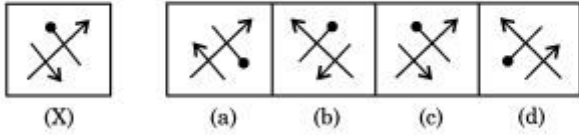
Question Number : 57 Question Id : 87827046037 Question Type : MCQ Option Shuffling : No

Is Question Mandatory : No Calculator : None Response Time : N.A Think Time : N.A

Minimum Instruction Time : 0

Correct Marks : 4 Wrong Marks : 1

कौन सा विकल्प आकृति (X) का सही दर्पण प्रतिबिम्ब है?



1. a
2. b
3. c
4. d

Options :

878270180965. 1

878270180966. 2

878270180967. 3

878270180968. 4

Question Number : 58 Question Id : 87827046038 Question Type : MCQ Option Shuffling : No

Is Question Mandatory : No Calculator : None Response Time : N.A Think Time : N.A

Minimum Instruction Time : 0

Correct Marks : 4 Wrong Marks : 1

A solid cube of each side 8cm has been painted red ,blue and black on pairs of opposite faces. It is then cut into cubical blocks of each side 2 cm. How many cubes have no faces painted?

1. 2
2. 4
3. 8
4. 12

Options :

878270180969. 1
878270180970. 2
878270180971. 3
878270180972. 4

Question Number : 58 Question Id : 87827046038 Question Type : MCQ Option Shuffling : No

Is Question Mandatory : No Calculator : None Response Time : N.A Think Time : N.A

Minimum Instruction Time : 0

Correct Marks : 4 Wrong Marks : 1

एक ठोस घन जिसकी प्रत्येक भुजा 8 सेमी है के विपरीत फलकों के जोड़ों को लाल, नीले और काले रंग से रंगा गया है। इसके बाद इसे 2 सेमी प्रत्येक भुजा के घनाकार ब्लॉक्स में काटा जाता है। कितने घनों में कोई भी फलक रंगा नहीं है?

1. 2
2. 4
3. 8
4. 12

Options :

878270180969. 1
878270180970. 2
878270180971. 3
878270180972. 4

Sub-Section Number :

4

Sub-Section Id :

8782701839

Question Shuffling Allowed :

No



Is Section Default? :

null

Question Id : 87827046039 Question Type : COMPREHENSION Sub Question Shuffling Allowed : Yes Group Comprehension Questions : No Question Pattern Type : NonMatrix Calculator : None Response Time : N.A Think Time : N.A Minimum Instruction Time : 0

Question Numbers : (59 to 60)

Question Label : Comprehension

Symbol based

Which Conclusion Would Follow On The Basis Of Statement:

Directions—

Symbols @, %, #, \$, * are used with different meanings as explained below—

'P @ Q' means 'P is not greater than Q'.

'P % Q' means 'P is neither greater than nor equal to Q'.

'P # Q' means 'P is neither smaller than nor equal to Q'.

'P \$ Q' means 'P is neither smaller than nor greater than Q'.

'P * Q' means 'P is not smaller than Q'.

Sub questions

Question Number : 59 Question Id : 87827046040 Question Type : MCQ Option Shuffling : No

Is Question Mandatory : No Calculator : None Response Time : N.A Think Time : N.A

Minimum Instruction Time : 0

Correct Marks : 4 Wrong Marks : 1

Statements— $H * D, D \# R, R @ L$

Conclusions—

I. $L @ H$

II. $H \# R$

1. If only conclusion I is true
2. If only conclusion II is true
3. If either conclusion I or II is true
4. If neither I nor II is true

Options :

878270180973. 1

878270180974. 2

878270180975. 3

878270180976. 4

**Question Number : 60 Question Id : 87827046041 Question Type : MCQ Option Shuffling : No
Is Question Mandatory : No Calculator : None Response Time : N.A Think Time : N.A**

Minimum Instruction Time : 0

Correct Marks : 4 Wrong Marks : 1

Statements— $N \% R, R @ K, K \# F.$

Conclusions—

I. $R @ F$

II. $R \# F$

1. If only conclusion I is true
2. If only conclusion II is true
3. If either conclusion I or II is true
4. If neither I nor II is true

Options :

878270180977. 1

878270180978. 2

878270180979. 3

Question Id : 87827046039 Question Type : COMPREHENSION Sub Question Shuffling Allowed : Yes Group Comprehension Questions : No Question Pattern Type : NonMatrix Calculator : None Response Time : N.A Think Time : N.A Minimum Instruction Time : 0

Question Numbers : (59 to 60)

Question Label : Comprehension

कथन के आधार पर कौन सा निष्कर्ष निकलेगा:

निर्देश-

प्रतीक @, %, #, \$, * का प्रयोग अलग अर्थों के साथ किया जाता है जैसे की नीचे दिया गया है:

'P @ Q' का मतलब है 'P, Q से बड़ा नहीं है।'

'P % Q' का मतलब है 'P न तो Q से बड़ा है न ही Q के बराबर है।'

'P # Q' का मतलब है 'P न तो Q से छोटा है न ही Q के बराबर है।'

'P \$ Q' का मतलब है 'P न तो Q से छोटा है न ही Q से बड़ा है।'

'P * Q' का मतलब है 'P, Q से छोटा नहीं है।'

Sub questions

Question Number : 59 Question Id : 87827046040 Question Type : MCQ Option Shuffling : No Is Question Mandatory : No Calculator : None Response Time : N.A Think Time : N.A Minimum Instruction Time : 0 Correct Marks : 4 Wrong Marks : 1

कथन- $H * D, D \# R, R @ L$

निष्कर्ष-

I. $L @ H$

II. $H \# R$

1. यदि केवल निष्कर्ष I सत्य है।
2. यदि केवल निष्कर्ष II सत्य है।
3. यदि या तो निष्कर्ष I या II सत्य है।
4. यदि न तो I और न ही II सत्य है।

Options :

878270180973. 1

878270180974. 2

878270180975. 3

878270180976. 4

Question Number : 60 Question Id : 87827046041 Question Type : MCQ Option Shuffling : No

Is Question Mandatory : No Calculator : None Response Time : N.A Think Time : N.A

Minimum Instruction Time : 0

Correct Marks : 4 Wrong Marks : 1

कथन- $N \% R, R @ K, K \# F$

निष्कर्ष-

I. $R @ F$

II. $R \# F$

1. यदि केवल निष्कर्ष I सत्य है।
2. यदि केवल निष्कर्ष II सत्य है।
3. यदि या तो निष्कर्ष I या II सत्य है।
4. यदि न तो I और न ही II सत्य है।

Options :

878270180977. 1

878270180978. 2

878270180979. 3

878270180980. 4

Sub-Section Number : 5
Sub-Section Id : 8782701840
Question Shuffling Allowed : No
Is Section Default? : null

Question Id : 87827046042 Question Type : COMPREHENSION Sub Question Shuffling Allowed : Yes Group Comprehension Questions : No Question Pattern Type : NonMatrix Calculator : None Response Time : N.A Think Time : N.A Minimum Instruction Time : 0

Question Numbers : (61 to 65)

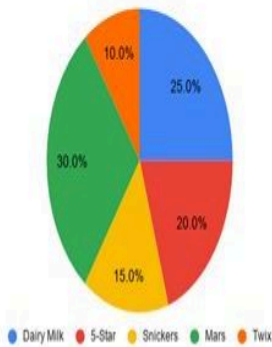
Question Label : Comprehension

Study the given pie chart and answer the five questions that follow.

The given pie chart shows the percentage distribution of number of different types of chocolates distributed by Ankit.

Total number of chocolates distributed = 280

Percentage distribution of the types of chocolates distributed



Sub questions

Question Number : 61 Question Id : 87827046043 Question Type : MCQ Option Shuffling : No Is Question Mandatory : No Calculator : None Response Time : N.A Think Time : N.A Minimum Instruction Time : 0 Correct Marks : 4 Wrong Marks : 1



The average number of chocolates of Dairy Milk, 5-star and Mars taken together is equal to number of chocolates distributed of which of the given type?

1. Dairy milk
2. Snickers
3. Mars
4. Twix

Options :

878270180981. 1

878270180982. 2

878270180983. 3

878270180984. 4

Question Number : 62 Question Id : 87827046044 Question Type : MCQ Option Shuffling : No

Is Question Mandatory : No Calculator : None Response Time : N.A Think Time : N.A

Minimum Instruction Time : 0

Correct Marks : 4 Wrong Marks : 1

Find the ratio of number of chocolates of 5-Star and Mars taken together to the number of chocolates of Dairy milk and Twix taken together?

1. 10:7
2. 7:8
3. 8:11
4. 11:12

Options :

878270180985. 1

878270180986. 2

878270180987. 3

878270180988. 4

Question Number : 63 Question Id : 87827046045 Question Type : MCQ

Is Question Mandatory : No Calculator : None Response Time : N.A 1



Minimum Instruction Time : 0

Correct Marks : 4 Wrong Marks : 1

The number of chocolates of Mars distributed by Ankit is what percentage more or less than the number of chocolates of 5-Star distributed by Ankit?

1. 50% less
2. 50% more
3. 40% more
4. 60% more

Options :

878270180989. 1
878270180990. 2
878270180991. 3
878270180992. 4

Question Number : 64 Question Id : 87827046046 Question Type : MCQ Option Shuffling : No Is Question Mandatory : No Calculator : None Response Time : N.A Think Time : N.A

Minimum Instruction Time : 0

Correct Marks : 4 Wrong Marks : 1

The ratio of price of one Dairy milk and one Snickers is 5:4 respectively, and total amount spent by Ankit on Dairy milk and Snickers is Rs. 2072. Find the price of 3 Dairy milk and 5 Snickers?

1. 100
2. 120
3. 130
4. 140

Options :

878270180993. 1
878270180994. 2
878270180995. 3
878270180996. 4

Question Number : 65 Question Id : 87827046047 Question Type : MCQ Option Shuffling : No

Is Question Mandatory : No Calculator : None Response Time : N.A Think Time : N.A

Minimum Instruction Time : 0

Correct Marks : 4 Wrong Marks : 1

The number of chocolates of Snickers distributed by Ankit is what percentage more or less than the number of chocolates of 5-Star distributed by Ankit?

1. 25% less
2. 25% more
3. 15% less
4. 35% less

Options :

878270180997. 1

878270180998. 2

878270180999. 3

878270181000. 4

Question Id : 87827046042 Question Type : COMPREHENSION Sub Question Shuffling Allowed

: Yes Group Comprehension Questions : No Question Pattern Type : NonMatrix Calculator :

None Response Time : N.A Think Time : N.A Minimum Instruction Time : 0

Question Numbers : (61 to 65)

Question Label : Comprehension

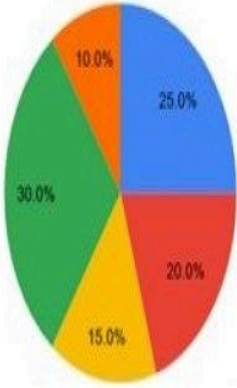
PIE CHART

दिया गया पाई चार्ट अंकित द्वारा वितरित विभिन्न प्रकार की चॉकलेटों की संख्या के प्रतिशत वितरण को दर्शाता है।

वितरित चॉकलेटों की कुल संख्या = 280

विभिन्न प्रकार की चाकलेटों के वितरण का प्रतिशत:

विभिन्न प्रकार की चाकलेटों के वितरण का प्रतिशत:



• डेयरी मिल्क • 5-स्टार • स्निकर • मार्स • ट्विक्स

Sub questions

Question Number : 61 Question Id : 87827046043 Question Type : MCQ Option Shuffling : No

Is Question Mandatory : No Calculator : None Response Time : N.A Think Time : N.A

Minimum Instruction Time : 0

Correct Marks : 4 Wrong Marks : 1

डेयरी मिल्क, 5-स्टार और मार्स की चॉकलेटों की एक साथ औसत संख्या, दी गई किस प्रकार की वितरित चॉकलेटों की संख्या के बराबर है?

1. डेयरी मिल्क
2. स्निकर्स
3. मार्स
4. ट्विक्स

Options :

878270180981. 1

878270180982. 2

878270180983. 3

878270180984. 4

Question Number : 62 Question Id : 87827046044 Question Type : MCQ Option Shuffling : No

Is Question Mandatory : No Calculator : None Response Time : N.A Think Time : N.A

Minimum Instruction Time : 0

Correct Marks : 4 Wrong Marks : 1

5-स्टार और मार्स की चॉकलेटों की एक साथ संख्या का डेयरी मिल्क और ट्विक्स की चॉकलेटों की एक साथ संख्या से अनुपात ज्ञात कीजिए?

1. 10:7
2. 7:8
3. 8:11
4. 11:12

Options :

878270180985. 1

878270180986. 2

878270180987. 3

878270180988. 4

Question Number : 63 Question Id : 87827046045 Question Type : MCQ Option Shuffling : No

Is Question Mandatory : No Calculator : None Response Time : N.A Think Time : N.A

Minimum Instruction Time : 0

Correct Marks : 4 Wrong Marks : 1

अंकित द्वारा वितरित मार्स की चॉकलेटों की संख्या, अंकित द्वारा वितरित 5-स्टार की चॉकलेटों की संख्या से कितना प्रतिशत अधिक या कम है?

1. 50% कम
2. 50% अधिक
3. 40% अधिक
4. 60% अधिक

Options :

878270180989. 1

878270180990. 2



878270180991. 3

878270180992. 4

Question Number : 64 Question Id : 87827046046 Question Type : MCQ Option Shuffling : No

Is Question Mandatory : No Calculator : None Response Time : N.A Think Time : N.A

Minimum Instruction Time : 0

Correct Marks : 4 Wrong Marks : 1

एक डेयरी मिल्क और एक स्निकर की कीमत का अनुपात क्रमशः 5:4 है, और अंकित द्वारा डेयरी मिल्क और स्निकर पर खर्च की गई कुल राशि रु० 2072 है। 3 डेयरी मिल्क और 5 स्निकर्स की कीमत ज्ञात कीजिए?

1. 100
2. 120
3. 130
4. 140

Options :

878270180993. 1

878270180994. 2

878270180995. 3

878270180996. 4

Question Number : 65 Question Id : 87827046047 Question Type : MCQ Option Shuffling : No

Is Question Mandatory : No Calculator : None Response Time : N.A Think Time : N.A

Minimum Instruction Time : 0

Correct Marks : 4 Wrong Marks : 1

अंकित द्वारा वितरित स्निकर्स की चॉकलेटों की संख्या, अंकित द्वारा वितरित 5-स्टार की चॉकलेटों की संख्या से कितना प्रतिशत अधिक या कम है?

1. 25% कम
2. 25% अधिक
3. 15% कम
4. 35% कम

Options :

878270180997. 1



878270180998. 2

878270180999. 3

878270181000. 4

Sub-Section Number :	6
Sub-Section Id :	8782701841
Question Shuffling Allowed :	Yes
Is Section Default? :	null

Question Number : 66 Question Id : 87827046048 Question Type : MCQ Option Shuffling : No

Is Question Mandatory : No Calculator : None Response Time : N.A Think Time : N.A

Minimum Instruction Time : 0

Correct Marks : 4 Wrong Marks : 1

Which statement is enough to give the answer of question.

The average age of teacher and students in a class is 3 years more than the average age of students. what is the age of the class teacher?

Statement-

I. There are 11 students in the class.

II. The average age of teacher and students is 14 years

1. If the data in statement I alone are sufficient to answer the question, while the data in statement II alone are not sufficient to answer the question.
2. If the data in statement II alone are sufficient to answer the question, while the data in statement I alone are not sufficient to answer the question
3. If the data in both the statements I and II together are necessary to answer the question
4. If the data in both the statements I and II together are not sufficient to answer the question

Options :

878270181001. 1

878270181002. 2

878270181003. 3

878270181004. 4

Question Number : 66 Question Id : 87827046048 Question Type : MCQ Option Shuffling : No

Is Question Mandatory : No Calculator : None Response Time : N.A Think Time : N.A

Minimum Instruction Time : 0

Correct Marks : 4 Wrong Marks : 1

कौन सा कथन प्रश्न का उत्तर देने के लिए पर्याप्त है।

एक कक्षा में शिक्षक और विद्यार्थियों की औसत आयु, विद्यार्थियों की औसत आयु से 3 वर्ष अधिक है। कक्षा शिक्षक की आयु क्या है?

कथन-

I. कक्षा में 11 विद्यार्थी हैं।

II. शिक्षक और विद्यार्थियों की औसत आयु 14 वर्ष है।

1. यदि अकेले कथन I में दिए गए आंकड़े प्रश्न का उत्तर देने के लिए पर्याप्त हैं, जबकि अकेले कथन II में दिए गए आंकड़े प्रश्न का उत्तर देने के लिए पर्याप्त नहीं हैं।
2. यदि अकेले कथन II में दिए गए आंकड़े प्रश्न का उत्तर देने के लिए पर्याप्त हैं, जबकि अकेले कथन I में दिए गए आंकड़े प्रश्न का उत्तर देने के लिए पर्याप्त नहीं हैं।
3. यदि एक साथ दोनों कथनों I और II में दिए गए आंकड़े प्रश्न का उत्तर देने के लिए आवश्यक हैं।
4. यदि एक साथ दोनों कथन I और II में दिए गए आंकड़े भी प्रश्न का उत्तर देने के लिए पर्याप्त नहीं हैं।

Options :

878270181001. 1

878270181002. 2

878270181003. 3

878270181004. 4

Question Number : 67 Question Id : 87827046049 Question Type : MCQ Option Shuffling : No

Is Question Mandatory : No Calculator : None Response Time : N.A Think Time : N.A

Minimum Instruction Time : 0

Correct Marks : 4 Wrong Marks : 1

Which statement is enough to give the answer of question.

A and B together can complete a work in 8 days. B alone can do it in 20 days. What part of the work was carried out by A?

Statement-

I. A completed the job alone after A and B worked together for 5 days.

II. Part of the work done by A could have been done by B and C together in 6 days

1. If the data in statement I alone are sufficient to answer the question, while the data in statement II alone are not sufficient to answer the question
2. If the data in statement II alone are sufficient to answer the question, while the data in statement I alone are not sufficient to answer the question
3. If the data either in statement I alone or in statement II alone are sufficient to answer the question.
4. If the data in both the statements I and II together are necessary to answer the question

Options :

878270181005. 1

878270181006. 2

878270181007. 3

878270181008. 4

Question Number : 67 Question Id : 87827046049 Question Type : MCQ Option Shuffling : No

Is Question Mandatory : No Calculator : None Response Time : N.A Think Time : N.A

Minimum Instruction Time : 0

Correct Marks : 4 Wrong Marks : 1

कौन सा कथन प्रश्न का उत्तर देने के लिए पर्याप्त है।

A और B एक साथ, एक काम को 8 दिनों में पूरा कर सकते हैं। B अकेले इसे 20 दिनों में कर सकता है। काम का कौन सा हिस्सा A द्वारा किया गया था?

कथन-

I. A और B द्वारा एक साथ 5 दिनों तक काम करने के बाद, A ने अकेले कार्य को पूरा किया।

II. A द्वारा किए गए काम का हिस्सा, B और C द्वारा एक साथ 6 दिनों में किया जा सकता था।

1. यदि अकेले कथन I में दिए गए आंकड़े प्रश्न का उत्तर देने के लिए पर्याप्त हैं, जबकि अकेले कथन II में दिए गए आंकड़े प्रश्न का उत्तर देने के लिए पर्याप्त नहीं हैं।
2. यदि अकेले कथन II में दिए गए आंकड़े प्रश्न का उत्तर देने के लिए पर्याप्त हैं, जबकि अकेले कथन I में दिए गए आंकड़े प्रश्न का उत्तर देने के लिए पर्याप्त नहीं हैं।
3. यदि अकेले कथन I में या अकेले कथन II में दिए गए आंकड़े प्रश्न का उत्तर देने के लिए पर्याप्त हैं।
4. यदि प्रश्न का उत्तर देने के लिए दोनों कथनों I और II में एक साथ दिए गए आंकड़े आवश्यक हैं।

Options :

878270181005. 1

878270181006. 2

878270181007. 3

878270181008. 4

Question Number : 68 Question Id : 87827046050 Question Type : MCQ Option Shuffling : No

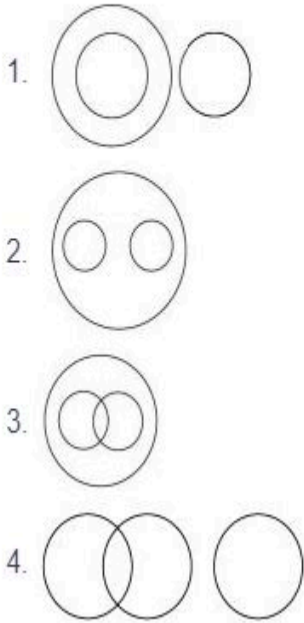
Is Question Mandatory : No Calculator : None Response Time : N.A Think Time : N.A

Minimum Instruction Time : 0

Correct Marks : 4 Wrong Marks : 1

Choose from the four diagrams given below, the one that illustrates the relationship among:

Languages, French, German



Options :

878270181009. 1

878270181010. 2

878270181011. 3

878270181012. 4

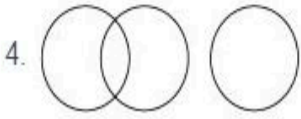
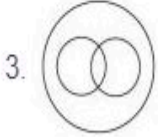

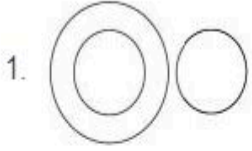
Question Number : 68 Question Id : 87827046050 Question Type : MCQ Option Shuffling : No

Is Question Mandatory : No Calculator : None Response Time : N.A Think Time : N.A

Minimum Instruction Time : 0

Correct Marks : 4 Wrong Marks : 1

नीचे दिए गए चार आरेखों में से उस आरेख को चुनें जो "भाषाएं, फ्रेंच, जर्मन" के बीच सही संबंध को दर्शाता है।



Options :

878270181009. 1

878270181010. 2

878270181011. 3

878270181012. 4

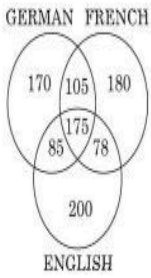
Question Number : 69 Question Id : 87827046051 Question Type : MCQ Option Shuffling : No

Is Question Mandatory : No Calculator : None Response Time : N.A Think Time : N.A

Minimum Instruction Time : 0

Correct Marks : 4 Wrong Marks : 1

A survey was conducted on a sample of 1000 persons with reference to their knowledge of English, french and German . The results of the survey are presented in the given Venn diagram. The ratio of the number of the persons who do not know any of the three languages to those who know all the three languages is:



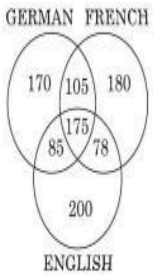
1. $\frac{1}{27}$
2. $\frac{1}{25}$
3. $\frac{1}{550}$
4. $\frac{175}{1000}$

Options :

878270181013. 1
878270181014. 2
878270181015. 3
878270181016. 4

Question Number : 69 Question Id : 87827046051 Question Type : MCQ Option Shuffling : No Is Question Mandatory : No Calculator : None Response Time : N.A Think Time : N.A Minimum Instruction Time : 0 Correct Marks : 4 Wrong Marks : 1

अंग्रेजी, फ्रेंच और जर्मन के ज्ञान के संदर्भ में 1000 व्यक्तियों के नमूने पर एक सर्वेक्षण किया गया था। सर्वेक्षण के परिणाम दिए गए वेन आरेख में प्रस्तुत किए गए हैं। उन व्यक्तियों की संख्या जो तीनों भाषाओं में से किसी को भी नहीं जानते हैं का उनसे जो तीनों भाषाओं को जानते हैं, अनुपात है:



1. $1/27$
2. $1/25$
3. $1/550$
4. $175/1000$

Options :

878270181013. 1
878270181014. 2
878270181015. 3
878270181016. 4

Question Number : 70 Question Id : 87827046052 Question Type : MCQ Option Shuffling : No

Is Question Mandatory : No Calculator : None Response Time : N.A Think Time : N.A

Minimum Instruction Time : 0

Correct Marks : 4 Wrong Marks : 1

Which statement is enough to give the answer of question.

Among M, N, T, R and D each having different age, who is the youngest ?

Statements—

I. N is younger than only D among them.

II. T is older than R and younger than M

1. If the data in both the statements I and II together are necessary to answer the question.
2. If the data in statement I alone is sufficient to answer the question, while the data in statement II alone is not sufficient to answer the question
3. If the data in statement II alone is sufficient to answer the question, while the data in statement I alone is not sufficient to answer the question.
4. If the data either in statement I alone or in statement II alone is sufficient to answer the question

Options :

878270181017. 1

878270181018. 2

878270181019. 3

878270181020. 4

Question Number : 70 Question Id : 87827046052 Question Type : MCQ Option Shuffling : No

Is Question Mandatory : No Calculator : None Response Time : N.A Think Time : N.A

Minimum Instruction Time : 0

Correct Marks : 4 Wrong Marks : 1

कौन सा कथन प्रश्न का उत्तर देने के लिए पर्याप्त है।

M, N, T, R और D में प्रत्येक की अलग-अलग उम्र है। इनमें से, सबसे छोटा कौन है?

कथन-

I. N इन सब में केवल D से छोटा है।

II. T, R से बड़ा है और M से छोटा है।

1. यदि प्रश्न का उत्तर देने के लिए दोनों कथन I और II में दिए गए आंकड़े एक साथ आवश्यक हैं।
2. यदि अकेले कथन I में दिए गए आंकड़े प्रश्न का उत्तर देने के लिए पर्याप्त हैं, जबकि अकेले कथन II में दिए गए आंकड़े प्रश्न का उत्तर देने के लिए पर्याप्त नहीं हैं।
3. यदि अकेले कथन II में दिए गए आंकड़े प्रश्न का उत्तर देने के लिए पर्याप्त हैं, जबकि अकेले कथन I में दिए गए आंकड़े प्रश्न का उत्तर देने के लिए पर्याप्त नहीं हैं।
4. यदि अकेले कथन I में या अकेले कथन II में दिए गए आंकड़े प्रश्न का उत्तर देने के लिए पर्याप्त हैं।

Options :

878270181017. 1

878270181018. 2

878270181019. 3

878270181020. 4

Sub-Section Number :

7

Sub-Section Id :

8782701842

Question Shuffling Allowed :

No

Is Section Default? :

null

Question Id : 87827046053 Question Type : COMPREHENSION Sub Question Shuffling Allowed

: Yes Group Comprehension Questions : No Question Pattern Type : NonMatrix Calculator :

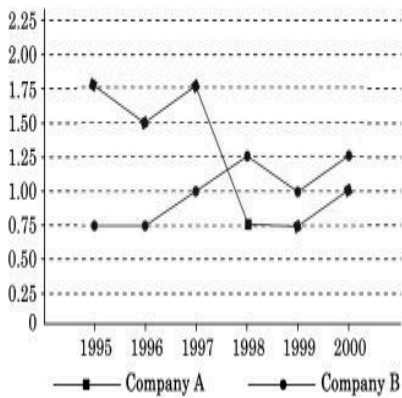
None Response Time : N.A Think Time : N.A Minimum Instruction Time : 0

Question Numbers : (71 to 75)

Question Label : Comprehension

Answer the questions based on the line graph below.

Ratio of Exports to Imports (in terms of money in crores) of two companies over the years.



Sub questions

Question Number : 71 Question Id : 87827046054 Question Type : MCQ Option Shuffling : No

Is Question Mandatory : No Calculator : None Response Time : N.A Think Time : N.A

Minimum Instruction Time : 0

Correct Marks : 4 Wrong Marks : 1

In how many of the given years were the exports more than the imports for company A?

1. 2
2. 3
3. 4
4. 5

Options :

878270181021. 1

878270181022. 2

878270181023. 3

878270181024. 4

Question Number : 72 Question Id : 87827046055 Question Type : MCQ

Is Question Mandatory : No Calculator : None Response Time : N.A 1



Minimum Instruction Time : 0

Correct Marks : 4 Wrong Marks : 1

If the exports of company A in 1998 were Rs 237 crores, what was the amount of imports in that years?

1. Rs 310 crores
2. Rs 312 crores
3. Rs 316 crores
4. Rs 320 crores

Options :

878270181025. 1

878270181026. 2

878270181027. 3

878270181028. 4

Question Number : 73 Question Id : 87827046056 Question Type : MCQ Option Shuffling : No

Is Question Mandatory : No Calculator : None Response Time : N.A Think Time : N.A

Minimum Instruction Time : 0

Correct Marks : 4 Wrong Marks : 1

If the imports of company A in 1997 were increased by 40 percent , what would be the new ratio of exports to the increased imports ?

1. 5:4
2. 2:3
3. 2:5
4. 3:5

Options :

878270181029. 1

878270181030. 2

878270181031. 3

878270181032. 4

Question Number : 74 Question Id : 87827046057 Question Type : MCQ Option Shuffling : No

Is Question Mandatory : No Calculator : None Response Time : N.A Think Time : N.A

Minimum Instruction Time : 0

Correct Marks : 4 Wrong Marks : 1

In how many of the given years were the exports more than the imports for company B?

1. 1
2. 2
3. 3
4. 4

Options :

878270181033. 1

878270181034. 2

878270181035. 3

878270181036. 4

Question Number : 75 Question Id : 87827046058 Question Type : MCQ Option Shuffling : No

Is Question Mandatory : No Calculator : None Response Time : N.A Think Time : N.A

Minimum Instruction Time : 0

Correct Marks : 4 Wrong Marks : 1

If the imports of company B in 1997 were increased by 50%, what would be the ratio of exports to the increased imports?

1. 1/3
2. 1/4
3. 2/5
4. 2/3

Options :

878270181037. 1

878270181038. 2

878270181039. 3

878270181040. 4

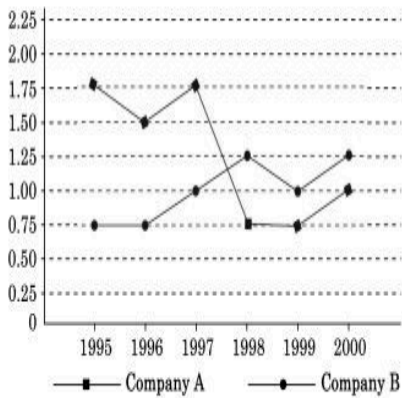
Question Id : 87827046053 Question Type : COMPREHENSION Sub Question Shuffling Allowed : Yes Group Comprehension Questions : No Question Pattern Type : NonMatrix Calculator : None Response Time : N.A Think Time : N.A Minimum Instruction Time : 0

Question Numbers : (71 to 75)

Question Label : Comprehension

नीचे दिए गए रेखा ग्राफ के आधार पर प्रश्नों के उत्तर दें।

विगत वर्षों में दो कंपनियों के निर्यात से आयात का अनुपात (करोड़ में धन के संदर्भ में):



Sub questions

Question Number : 71 Question Id : 87827046054 Question Type : MCQ Option Shuffling : No Is Question Mandatory : No Calculator : None Response Time : N.A Think Time : N.A Minimum Instruction Time : 0

Correct Marks : 4 Wrong Marks : 1

दिये गए वर्षों में से कितने वर्षों में कंपनी A के लिए निर्यात, आयात से अधिक थे?

1. 2
2. 3
3. 4
4. 5

Options :

878270181021. 1

878270181022. 2



878270181023. 3

878270181024. 4

Question Number : 72 Question Id : 87827046055 Question Type : MCQ Option Shuffling : No

Is Question Mandatory : No Calculator : None Response Time : N.A Think Time : N.A

Minimum Instruction Time : 0

Correct Marks : 4 Wrong Marks : 1

यदि 1998 में कंपनी A का निर्यात 237 करोड़ रुपये था, तो उस वर्ष में आयात की राशि क्या थी?

1. 310 करोड़ रु.
2. 312 करोड़ रु.
3. 316 करोड़ रु.
4. 320 करोड़ रु.

Options :

878270181025. 1

878270181026. 2

878270181027. 3

878270181028. 4

Question Number : 73 Question Id : 87827046056 Question Type : MCQ Option Shuffling : No

Is Question Mandatory : No Calculator : None Response Time : N.A Think Time : N.A

Minimum Instruction Time : 0

Correct Marks : 4 Wrong Marks : 1

यदि 1997 में कंपनी A के आयात में 40 प्रतिशत की वृद्धि हुई, तो निर्यात और बढ़े हुए आयात का अनुपात क्या होगा?

1. 5:4
2. 2:3
3. 2:5
4. 3:5

Options :

878270181029. 1



878270181030. 2

878270181031. 3

878270181032. 4

Question Number : 74 Question Id : 87827046057 Question Type : MCQ Option Shuffling : No

Is Question Mandatory : No Calculator : None Response Time : N.A Think Time : N.A

Minimum Instruction Time : 0

Correct Marks : 4 Wrong Marks : 1

दिए गए वर्षों में से कितने वर्षों में कंपनी B के लिए निर्यात, आयात से अधिक था?

1. 1

2. 2

3. 3

4. 4

Options :

878270181033. 1

878270181034. 2

878270181035. 3

878270181036. 4

Question Number : 75 Question Id : 87827046058 Question Type : MCQ Option Shuffling : No

Is Question Mandatory : No Calculator : None Response Time : N.A Think Time : N.A

Minimum Instruction Time : 0

Correct Marks : 4 Wrong Marks : 1

यदि 1997 में कंपनी B के आयात में 50 प्रतिशत की वृद्धि हुई, तो निर्यात और बढ़े हुए आयात का अनुपात क्या होगा?

1. $\frac{1}{3}$

2. $\frac{1}{4}$

3. $\frac{2}{5}$

4. $\frac{2}{3}$

Options :



878270181037. 1

878270181038. 2

878270181039. 3

878270181040. 4